

56. TAKMIČENJE MLADIH MATEMATIČARA  
BOSNE I HERCEGOVINE

FEDERALNO PRVENSTVO UČENIKA OSNOVNIH ŠKOLA

Osma osnovna škola „Amer Ćenanović“ Butmir

Sarajevo, 14.05.2016. godine

56. TAKMIČENJE MLADIH MATEMATIČARA BOSNE I HERCEGOVINE

FEDERALNO PRVENSTVO UČENIKA OSNOVNIH ŠKOLA

Sarajevo, 14.05.2016. godine

# Z A D A C I

## VII/9 i VI/8 razred

**Zadatak 1** *Odrediti nepoznate cifre  $a$  i  $b$  tako da je broj  $\overline{a783b}$  djeljiv sa 56.*

**Zadatak 2** *Koji je od razlomaka  $\frac{5553}{5557}$ ,  $\frac{6664}{6669}$  veći?*

**Zadatak 3** *Od tri mladića i tri djevojke svaki mladić poznaje tačno dvije djevojke i svaka djevojka tačno dva mladića. Dokazati da se djevojke i mladići mogu svrstati u parove tako da se u svakom paru nađu poznanici.*

**Zadatak 4** *Neka su  $C$  i  $D$  tačke u unutrašnjosti ugla  $\angle AOB$  takve da vrijedi:  $5m(\angle COD) = 4m(\angle AOC)$  i  $3m(\angle COD) = 2m(\angle DOB)$ . Ako je  $m(\angle AOB) = 105^\circ$ , odrediti  $m(\angle COD)$ .*

**Zadatak 5** *Stranice jedne knjige su numerisane brojevima od 1 do 100. Iz knjige je istrgnuto nekoliko listova i pri tome se pokazalo da je zbir brojeva kojima su te strane numerisane jednak 4949. Koliko listova je istrgnuto?*

- Svaki zadatak je vrednovan sa 10 poena.
- U toku rada nije dozvoljeno izlaženje iz učionice niti korištenje digitrona i mobitela.
- Vrijeme za rad je 180 minuta.

# Z A D A C I

## VIII/9 i VII/8 razred

**Zadatak 1** Jedno preduzeće iz Tešnja je u prošloj godini ispunilo plan proizvodnje sa 112%. Izračunati koliko procenata ostvarene proizvodnje predstavlja planirana.

**Zadatak 2** Ako je

$$w = \sqrt{1 + \sqrt{-3 + 2\sqrt{3}}} - \sqrt{1 - \sqrt{-3 + 2\sqrt{3}}},$$

dokazati da je  $w = \sqrt{3} - 1$ .

**Zadatak 3** Dokazati da se pri dijeljenju prostog broja sa 30 dobija ostatak koji je prost broj.

**Zadatak 4** U pravouglom trouglu  $ABC$  tačka  $D$  je sredina hipotenuze, a  $E$  i  $F$  su tačke na katetama  $AC$  i  $BC$  respektivno takve da je  $DE \perp DF$ . Dokazati da je  $|EF|^2 = |AE|^2 + |BF|^2$ .

**Zadatak 5** U tablici

0	1	2	3	4	5	6	7	8	9
9	0	1	2	3	4	5	6	7	8
8	9	0	1	2	3	4	5	6	7
7	8	9	0	1	2	3	4	5	6
6	7	8	9	0	1	2	3	4	5
5	6	7	8	9	0	1	2	3	4
4	5	6	7	8	9	0	1	2	3
3	4	5	6	7	8	9	0	1	2
2	3	4	5	6	7	8	9	0	1
1	2	3	4	5	6	7	8	9	0

je zaokruženo 10 brojeva, i to u svakom redu i svakom stupcu po jedan. Dokazati da su među njima bar dva jednaka.

- Svaki zadatak je vrednovan sa 10 poena.
- U toku rada nije dozvoljeno izlaženje iz učionice niti korištenje digitrona i mobitela.
- Vrijeme za rad je 180 minuta.

56. TAKMIČENJE MLADIH MATEMATIČARA BOSNE I HERCEGOVINE

FEDERALNO PRVENSTVO UČENIKA OSNOVNIH ŠKOLA

Sarajevo, 14.05.2016. godine

# Z A D A C I

## IX/9 i VIII/8 razred

**Zadatak 1** Ako je  $a > b > c$ , dokazati da je

$$\frac{1}{a-b} + \frac{1}{b-c} > \frac{2}{a-c}.$$

**Zadatak 2** Naći skup prirodnih brojeva djeljivih sa osam čiji je zbir cifara u dekadnom sistemu 7, a proizvod 6.

**Zadatak 3** U trapezu  $ABCD$ , vrijedi  $AD \parallel BC$ ,  $m(\angle ABC) = 30^\circ$ ,  $m(\angle BCD) = 60^\circ$  i  $|BC| = 7$ . Neka su  $E, M, F, N$  sredina stranica  $\overline{AB}, \overline{BC}, \overline{CD}$  i  $\overline{DA}$ . Ako je  $|MN| = 3$ , izračunati  $|EF|$ .

**Zadatak 4** U skupu prirodnih brojeva riješiti jednačinu

$$x^3 + x^2y + xy^2 + y^3 = 8(x^2 + xy + y^2 + 1).$$

**Zadatak 5** 605 kugli jednakog poluprečnika je podijeljeno na dva dijela. Od jednog dijela je napravljena "uspravna piramida" kojoj je baza kvadrat, a od drugog dijela je napravljena "uspravna piramida" kojoj je baza jednakos-traničan trougao. Obje "piramide" su u visinu složene od jednakog broja redova kugli. Odrediti broj kugli u svakoj "piramidi".

- Svaki zadatak je vrednovan sa 10 poena.
- U toku rada nije dozvoljeno izlaženje iz učionice niti korištenje digitrona i mobitela.
- Vrijeme za rad je 180 minuta.

# Rješenje zadatka

## VII/9 i VI/8 razred

**Zadatak 1.** *Odrediti nepoznate cifre  $a$  i  $b$  tako da je broj  $\overline{a783b}$  djeljiv sa 56.*

**Rješenje.** Kako je  $56 = 7 \cdot 8$  i  $\text{nzd}(7, 8) = 1$ , to je dovoljno odrediti cifre  $a$  i  $b$  tako da  $7 \mid x$  i  $8 \mid x$ . Neka je  $x = \overline{a783b}$ . Kako je  $x = 10000a + 7800 + \overline{3b}$  i  $8 \mid (10000a + 7800)$ , to iz  $8 \mid x$  slijedi  $8 \mid \overline{3b}$ . Odavde slijedi  $b = 2$ .

Broj  $x$  možemo napisati u obliku  $x = 1000a + 7832$ . Nadalje, imamo  $10000a = 7 \cdot 1428a + 4a$  i  $7832 = 7 \cdot 1118 + 6$ , pa je  $x = 7(1428a + 1118) + 4a + 6$ . Odavde slijedi  $7 \mid x$ , ako i samo ako  $7 \mid (4a + 6)$ . Kako je  $10 \leq 4a + 6 \leq 42$ ,  $7 \mid (4a + 6)$  i  $4a + 6$  je paran broj, to je  $4a + 6 \in \{14, 28, 42\}$ , tj.  $2a + 3 \in \{7, 14, 21\}$ . Odavde nsljedi  $a = 2$  ili  $a = 9$ .

Prema tome  $(a, b) \in \{(2, 2), (9, 2)\}$ .  $\diamond$

**Zadatak 2.** *Koji je od razlomaka  $\frac{5553}{5557}$ ,  $\frac{6664}{6669}$  veći?*

**Rješenje.** Ako se prvi razlomak napiše u obliku  $A = \frac{a-4}{a}$ , a drugi u obliku  $B = \frac{b-5}{b}$ , tada je njihova razlika  $A - B = \frac{5a-4b}{ab}$ . Pošto je  $5a = 27785$  i  $4b = 26676$ , vidi se da je  $5a - 4b > 0$ , pa je  $A - B > 0$ , tj.  $A > B$ .  $\diamond$

**Zadatak 3.** *Od tri mladića i tri djevojke svaki mladić poznaje tačno dvije djevojke i svaka djevojka tačno dva mladića. Dokazati da se djevojke i mladići mogu svrstati u parove tako da se u svakom paru nađu poznanici.*

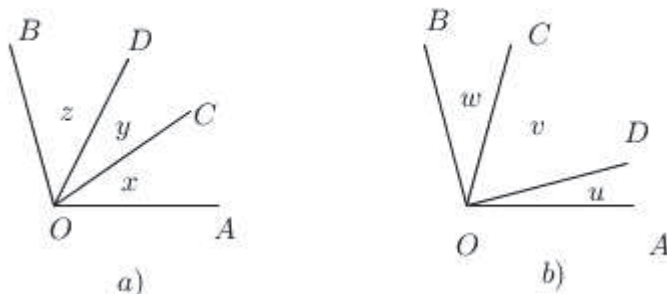
**Rješenje.** Označimo djevojke sa  $D_1, D_2$  i  $D_3$ , a mladiće sa  $M_1, M_2$  i  $M_3$ . Prema pretpostavci zadatka ne može se desiti da dvije djevojke poznaju dva mladića i ti isti mladići poznaju te dvije djevojke, jer bi u tom slučaju trećeg mladića poznavala samo jedna djevojka. Pretpostavimo da djevojka  $D_1$  poznaje mladiće  $M_1$  i  $M_2$ . Formirajmo prvi par poznanika  $(D_1, M_1)$ . Kako djevojka  $D_2$  poznaje dva mladića, to ona sigurno poznaje jednog od mladića  $M_2$  i  $M_3$ . Formirajmo par  $(D_2, M_2)$ . Ako se djevojka  $D_3$  i mladić  $M_2$  poznaju, onda je ih možemo posmatrati kao treći par. Ako se nepoznaju, to znači da djevojka  $D_3$  poznaje mladiće  $M_1$  i  $M_2$ , a mladić  $D_3$  poznaje djevojke  $D_1$  i  $D_2$ , jer ne poznaje mladića  $M_3$ . Tada raspavimo drugi par i posmatramo parove  $(D_2, M_3)$  i  $(D_3, M_2)$ . Ovom podjelom u parove vidimo da smo ispunili uslove zadatka.  $\diamond$

**Zadatak 4.** *Neka su  $C$  i  $D$  tačke u unutrašnjosti ugla  $\angle AOB$  takve da vrijedi:  $5m(\angle COD) = 4m(\angle AOC)$  i  $3m(\angle COD) = 2m(\angle DOB)$ . Ako je  $m(\angle AOB) = 105^\circ$ , odrediti  $m(\angle COD)$ .*

**Rješenje.** Poluprave  $OC$  i  $OD$  se nalaze u unutrašnjosti ugla  $\angle AOB$ , pa je bitno da znamo koja od ovih polupravi je "bliža" polupravoj  $OA$ . Zbog toga razmatramo dva slučaja:

- a) poluprava  $OC$  leži u unutrašnjosti ugla  $\angle AOD$ ,
  - b) poluprava  $OD$  leži u unutrašnjosti ugla  $\angle AOC$ .
- a) Neka  $OC$  leži u unutrašnjosti ugla  $\angle AOD$ . Stavimo:

$$m(\angle AOC) = x, m(\angle COD) = y \quad \text{i} \quad m(\angle DOB) = z.$$



Tada je  $5y = 4x$ ,  $3y = 2z$  i  $x + y + z = 105^\circ$ . Pomnožimo li posljednju jednačinu sa 4 imaćemo  $4x + 4y + 4z = 420^\circ$ , odnosno  $5y + 4y + 6y = 420^\circ$ , tj.  $15y = 420^\circ$ . Dakle,  $y = 28^\circ$ ,  $x = 35^\circ$  i  $z = 42^\circ$ . Dakle,  $m(\angle COD) = y = 28^\circ$ .

b) Neka poluprava  $OD$  leži u unutrašnjosti  $\angle AOC$ . Stavimo  $m(\angle AOD) = u$ ,  $m(\angle DOC) = v$  i  $m(\angle COB) = w$ . Na osnovu datih uslova u zadatku imamo:  $5v = 4(u + v)$ ,  $3v = 2(v + w)$  i  $u + v + w = 105^\circ$ . Odavde slijedi  $v = 4u$  i  $v = 2w$ . Tada je  $w = 2u$  i  $v = 4u$ . Na osnovu toga iz  $u + v + w = 105^\circ$  slijedi  $u = 15^\circ$ ,  $v = 60^\circ$  i  $w = 30^\circ$ . Dakle,  $m(\angle COD) = v = 60^\circ$ .  $\diamond$

**Zadatak 5.** Stranice jedne knjige su numerisane brojevima od 1 do 100. Iz knjige je istrgnuto nekoliko listova i pri tome se pokazalo da je zbir brojeva kojima su te strane numerisane jednak 4949. Koliko listova je istrgnuto?

**Rješenje.** Kako je svaki list numerisan brojevima  $2n - 1$  (s jedne strane) i  $2n$  (s druge strane), to je zbir brojeva na svakom listu jednak  $4n - 1$ , gdje je  $1 \leq n \leq 50$ . Neka je preostalo  $k$  neistrgnutih listova. Tada je zbir brojeva kojima su numerisane te stranice jednak

$$(4n_1 - 1) + (4n_2 - 1) + \dots + (4n_k - 1) = (1 + 2 + 3 + 4 + \dots + 100) - 4949,$$

tj.

$$4(n_1 + n_2 + n_3 + \dots + n_k) - k = 101.$$

Kako je ostatak pri dijeljenju broja 101 sa 4 jednak 1, to i ostatak pri dijeljenju broja  $4(n_1 + n_2 + n_3 + \dots + n_k) - k$  sa 4 mora biti jednak 1. Kako je  $4(n_1 + n_2 + n_3 + \dots + n_k)$  djeljivo sa 4, to ostatak pri dijeljenju broja  $-k$  sa 4 mora biti jednak 1, tj. ostatak pri dijeljenju broja  $k$  sa 4 mora biti jednak 3. Zaključujemo da je

$$k \in \{3, 7, 11, 15, \dots, 87, 91, 95, 99\}.$$

Kako je za  $k \geq 7$

$$4(n_1 + n_2 + n_3 + \dots + n_k) - k \geq 4(1 + 2 + \dots + 7) - 7 = 105 > 101,$$

to slijedi da je jedino moguće rješenje  $k = 3$ , pa zaključujemo da je istrgnuto  $50 - 3 = 47$  listova.  $\diamond$

# Rješenje zadataka

## VIII/9 i VII/8 razred

**Zadatak 1.** Jedno preduzeće iz Tešnja je u prošloj godini ispunilo plan proizvodnje sa 112%. Izračunati koliko procenata ostvarene proizvodnje predstavlja planirana.

**Rješenje.** Neka je  $a$  planirana proizvodnja, a  $b$  ostvarena proizvodnja. Tada je

$$b = \frac{a \cdot 112}{100} = \frac{28}{25}a.$$

Neka je  $p$  traženi procenat. Tada je  $a = \frac{b \cdot p}{100}$ . Odavde je

$$p = \frac{100a}{b} = \frac{100a}{\frac{28}{25} \cdot a} = \frac{2500}{28} = \frac{625}{7} = 89,29\%.$$

◇

**Zadatak 2.** Ako je

$$w = \sqrt{1 + \sqrt{-3 + 2\sqrt{3}}} - \sqrt{1 - \sqrt{-3 + 2\sqrt{3}}},$$

dokazati da je  $w = \sqrt{3} - 1$ .

**Rješenje.** Kako je  $\sqrt{1 + \sqrt{-3 + 2\sqrt{3}}} > \sqrt{1 - \sqrt{-3 + 2\sqrt{3}}}$ , to je  $w > 0$ .

Stavimo  $a = \sqrt{1 + \sqrt{-3 + 2\sqrt{3}}}$  i  $b = \sqrt{1 - \sqrt{-3 + 2\sqrt{3}}}$ . Tada je

$$a^2 = 1 + \sqrt{-3 + 2\sqrt{3}}$$

i

$$b^2 = 1 - \sqrt{-3 + 2\sqrt{3}},$$

pa je  $a^2 + b^2 = 2$ .

S druge strane imamo

$$\begin{aligned} ab &= \sqrt{\left(1 + \sqrt{-3 + 2\sqrt{3}}\right) \cdot \left(1 - \sqrt{-3 + 2\sqrt{3}}\right)} \\ &= \sqrt{1 - \left(-3 + 2\sqrt{3}\right)} = \sqrt{4 - 2\sqrt{3}} \\ &= \sqrt{(\sqrt{3} - 1)^2} = \left|\sqrt{3} - 1\right| = \sqrt{3} - 1. \end{aligned}$$



Kako je  $w = a - b$  i  $w^2 = (a - b)^2 = a^2 + b^2 - 2ab$ , to je

$$w^2 = 2 - 2(\sqrt{3} - 1) = 4 - 2\sqrt{3} = (\sqrt{3} - 1)^2,$$

pa je  $w = |w| = \sqrt{w^2} = \sqrt{(\sqrt{3} - 1)^2} = \sqrt{3} - 1$ .  $\diamond$

**Zadatak 3.** Dokazati da se pri dijeljenju prostog broja sa 30 dobija ostatak koji je prost broj.

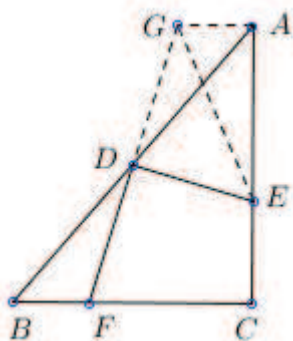
**Rješenje.** Neka se pri djeljenju prostog broja  $p$  brojem 30 dobija količnik  $a$  i ostatak  $r$ . Tada je  $0 \leq r < 30$ . Ako bi bilo  $r = 0$ , onda bi prost broj  $p$  bio djeljiv brojem 30, što je u suprotnosti sa pretpostavkom da je  $p$  prost broj. Trebamo dokazati da je  $r$  prost broj. Pretpostavimo suprotno, tj. da je  $r$  složen broj. Svaki složen broj manji od 30 ima kao prosti faktor bar jedan od brojeva: 2, 3 i 5. Naime, svaki parni broj ima prosti faktor 2. Neparni složeni brojevi manji od 30 su: 9, 15, 21, 25 i 27. Oni imaju bar jedan prosti faktor 3 ili 5. To znači da  $r$  i 30 imaju bar jedan zajednički prosti faktor. Neka je taj faktor  $q$ . Tada je  $30 = qb$  i  $r = qc$ , gdje su  $b$  i  $c$  prirodni brojevi. Tako imamo

$$p = 30a + r = qab + qc = q(ab + c),$$

tj.  $q \mid p$ , što je nemoguće, jer je  $p$  prost broj. Pretpostavka da ostatak nije prost broj dovela nas je do kontradikcije, pa nije tačna. Dakle, ostatak je prost broj.  $\diamond$

**Zadatak 4.** U pravouglom trouglu  $ABC$  tačka  $D$  je sredina hipotenuze, a  $E$  i  $F$  su tačke na katetama  $AC$  i  $BD$  respektivno takve da je  $DE \perp DF$ . Dokazati da je  $|EF|^2 = |AE|^2 + |BF|^2$ .

**Rješenje.** Kroz tačku  $A$  povucimo paralelu sa  $BC$ . Neka prava  $FD$  siječe ovu paralelu u tački  $G$ .



Trouglovi  $BDF$  i  $ADG$  su podudarni, jer je  $|AD| = |BD|$ ,  $m(\angle DAG) = m(\angle DBF)$  kao naizmjenični uglovi i  $m(\angle ADG) = m(\angle BDF)$  kao unakrsni uglovi. Iz ove podudarnosti slijedi  $|DG| = |DF|$ . Posmatrajmo sada pravougule trouglove  $EDF$  i  $EDG$ . Vrijedi  $|DG| = |DF|$ ,  $|ED| = |ED|$  i  $m(\angle EDF) = m(\angle EDG) = 90^\circ$ . Na osnovu pravila SUS ovi trouglovi su podudarni, pa je  $|EG| = |EF|$ .

Tada je  $|EF|^2 = |EG|^2$ . Primjenom Pitagorine teoreme na trougao  $EGA$  dobije se  $|EG|^2 = |AG|^2 + |AE|^2 = |AE|^2 + |BF|^2$ . Dakle,  $|EF|^2 = |AE|^2 + |BF|^2$ , što je i trebalo dokazati.  $\diamond$

**Zadatak 5.** *U tablici*

0	1	2	3	4	5	6	7	8	9
9	0	1	2	3	4	5	6	7	8
8	9	0	1	2	3	4	5	6	7
7	8	9	0	1	2	3	4	5	6
6	7	8	9	0	1	2	3	4	5
5	6	7	8	9	0	1	2	3	4
4	5	6	7	8	9	0	1	2	3
3	4	5	6	7	8	9	0	1	2
2	3	4	5	6	7	8	9	0	1
1	2	3	4	5	6	7	8	9	0

je zaokruženo 10 brojeva, i to u svakom redu i svakom stupcu po jedan. Dokazati da su među njima bar dva jednaka.

**Rješenje.** Uočimo da je svaki broj u tablici jednak ostatku koji nastaje pri dijeljenju zbira prvog broja u redu i prvog broja u stupcu gdje se nalazi posmatrani broj. To znači da je ostatak pri dijeljenju zbira svih zaokruženih brojeva s 10 jednak ostatku pri dijeljenju zbira ((zbir brojeva u prvom redu) + (zbir brojeva u prvom stupcu))

$$(0+1+2+3+4+5+6+7+8+9)+(0+9+8+7+6+5+4+3+2+1) = 45+45 = 90$$

sa 10, a to je 0.

Međutim, kada bi svi zaokruženi brojevi bili različiti, onda bi njihov zbir bio jednak

$$0 + 1 + 2 + 3 + 4 + 5 + 6 + 7 + 8 + 9 = 45,$$

pa bi ostatak pri dijeljenju s 10 bio 5. To znači da ne mogu svi zaokruženi brojevi biti različiti.  $\diamond$

# Rješenje zadatka

## IX/9 i VIII/8 razred

**Zadatak 1.** Ako je  $a > b > c$ , dokazati da

$$\frac{1}{a-b} + \frac{1}{b-c} > \frac{2}{a-c}.$$

**Rješenje.** Kako je  $a > b > c$ , to je

$$a - c > a - b > 0, \quad a - c > b - c > 0.$$

Tada je  $\frac{a-c}{a-b} > 1$  i  $\frac{a-c}{b-c} > 1$ . Sabiranjem ove dvije nejednakosti dobije se

$$\frac{a-c}{a-b} + \frac{a-c}{b-c} > 2.$$

Dijeljenjem posljednje nejednakosti pozitivnim realnim brojem  $a - c$  dobije se

$$\frac{1}{a-b} + \frac{1}{b-c} > \frac{2}{a-c},$$

što je i trebalo dokazati.

**Drugo rješenje.** Kako je  $a > b > c$ , to postoje pozitivni realni brojevi  $x$  i  $y$  takvi da je  $a - b = x$  i  $b - c = y$ . Sabiranjem ovih jednakosti dobije se  $a - c = x + y$ .

Stavimo  $w = \frac{1}{a-b} + \frac{1}{b-c} - \frac{2}{a-c}$ . Trebamo pokazati da je  $w > 0$ . Odavde imamo

$$w = \frac{1}{x} + \frac{1}{y} - \frac{2}{x+y} = \frac{x(x+y) + y(x+y) - 2xy}{xy(x+y)} = \frac{x^2 + y^2}{xy(x+y)} > 0.$$

Što je i trebalo dokazati.

**Treće rješenje** Stavimo  $w = \frac{1}{a-b} + \frac{1}{b-c} - \frac{2}{a-c}$ . Nakon svođenja na isti nazivnik i sređivanja dobije se

$$w = \frac{a^2 + 2b^2 + c^2 - 2ab - 2bc}{(a-b)(b-c)(a-c)} = \frac{(a-b)^2(b-c)^2}{(a-b)(b-c)(a-c)} > 0,$$

što je i trebalo dokazati.  $\diamond$

**Zadatak 2.** Naći skup prirodnih brojeva djeljivih sa osam čiji je zbir cifara u dekadnom sistemu 7, a proizvod 6.

**Rješenje.** Pošto je traženi broj djeliv sa 8, on mora da bude paran. Proizvod cifara traženog broja je 6, pa je svaka cifra tog broja faktor broja 6. To znači da decimalne cifre traženog broja pripadaju skupu  $\{1, 2, 3, 6\}$ . Kako je traženi broj djeljiv sa 8, to je on paran, pa se završava parnom cifrom. Dakle, cifra jedinica je 2 ili 6.

Ako je cifra jedinica 6, onda zbir preostalih cifara traženog broja je  $7 - 6 = 1$ . Prema tome, traženi broj je 16.

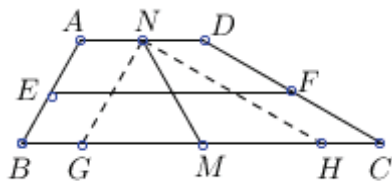
Neka je cifra jedinica 2. Kako je proizvod svih cifara 6, to je proizvod preostalih cifara 3. Tako smo dobili da traženi broj ima cifre 2, 3, 1, 1, jer je zbir svih cifara 7. Imamo ove mogućnosti: 1132, 1312 i 3112. Uslov da je traženi broj djeljiv sa 8 zadovoljavaju brojevi: 1312 i 3112.

Traženi skup brojeva je  $\{16, 1312, 3112\}$ .  $\diamond$

**Zadatak 3.** U trapezu  $ABCD$ , vrijedi  $AD \parallel BC$ ,  $m(\angle ABC) = 30^\circ$ ,  $m(\angle BCD) = 60^\circ$  i  $|BC| = 7$ . Neka su  $E, M, F, N$  sredina stranica  $\overline{AB}, \overline{BC}, \overline{CD}$  i  $\overline{DA}$ . Ako je  $|MN| = 3$ , izračunati  $|EF|$ .

**Rješenje.**  $\overline{EF}$  je srednja linija trapeza, pa je  $|EF| = \frac{1}{2}(|BC| + |AD|)$ . Kako je  $|BC| = 7$ , to je neophodno da izračunamo  $|AD|$ .

Kroz tačku  $N$  povucimo paralele sa  $AB$  i  $DC$ . Neka ove paralele sijeku  $\overline{BC}$  u tačkama  $G$  i  $H$ . Četverouglovi  $ABGN$  i  $CDNH$  imaju dva para paralelnih stranica, pa su paralelogrami, Zbog toga je  $|BG| = |NA| = |ND| = |CH|$ . Kako je  $|CM| = |MB|$  i  $|CH| = |GB|$ , to je  $|HM| = |MG|$ . Dakle,  $M$  je sredina duži  $\overline{GH}$ .



Kako je  $NH$  paralelno sa  $DC$ , to je  $m(\angle NHG) = m(\angle DCB) = 60^\circ$ . Isto tako iz  $NG \parallel AB$  slijedi  $m(\angle NGH) = m(\angle ABC) = 30^\circ$ . Zbog toga je trougao  $NGH$  pravougli trougao sa pravim uglom u tjemenu  $N$ . Nadalje,  $\overline{NM}$  je težišna linija pravouglog trougla  $NGH$  koja odgovara hipotenuzi, pa je  $|NM| = \frac{1}{2}|GH|$ . Odatle je  $|GH| = 2|MN| = 2 \cdot 3 = 6$ . Kako je  $|AD| = |HC| + |BG|$ , to je  $|AD| = |BC| - |HG| = 7 - 6 = 1$ . Konačno imamo  $|EF| = \frac{1}{2}(7 + 1) = 4$ .  $\diamond$

**Zadatak 4.** U skupu prirodnih brojeva riješiti jednačinu

$$x^3 + x^2y + xy^2 + y^3 = 8(x^2 + xy + y^2 + 1).$$

**Rješenje.** Vidimo da je jednačina simetrična po  $x$  i  $y$ , pa se može zapisati u ekvivalentnom obliku

$$((x + y)^2 - 2xy)(x + y) = 8((x + y)^2 - xy + 1),$$

koji uz uvođenje supstitucije  $x + y = u$  i  $xy = v$  postaje

$$u(u^2 - 2v) = 8(u^2 - v + 1).$$

Zaključujemo da  $u$  mora biti paran, tj.  $u = 2t$ ,  $t \in \mathbb{N}$ . Sada posljednja jednačina prelazi u oblik

$$2t^3 - tv = 8t^2 - 2v + 2,$$

koja je linearna po  $v$ , pa dobijamo

$$v = 2t^2 - 4t - 8 - \frac{18}{t-2}, \quad t \neq 2.$$

Da bi rješenja bila cjelobrojna,  $t - 2$  mora biti djelitelj broja 18, tj.

$$t-2 \in \{\pm 1, \pm 2, \pm 3, \pm 6, \pm 9, \pm 18\} \Rightarrow t \in \{-16, -7, -4, -1, 0, 1, 3, 4, 5, 8, 11, 20\}.$$

Kako  $t$  mora biti prirodan broj, to dobijamo

$$t \in \{1, 3, 4, 5, 8, 11, 20\}.$$

Uvrštavajući dobijene vrijednosti dobijamo

$t$	1	3	4	5	8	11	20
$u$	2	6	8	10	16	22	40
$v$	8	-20	-1	16	85	188	711

Rješenja za  $x$  i  $y$ , iz skupa prirodnih brojeva, se dobiju jedino za  $(t, u, v) = (5, 10, 16)$ , i to  $(x, y) \in \{(2, 8), (8, 2)\}$ .

Još ostaje pronaći rješenja za  $t = 2$ . Tada je  $u = 4$ . Uvrstimo li to u jednačinu  $u(u^2 - 2v) = 8(u^2 - v + 1)$ , dobijamo je  $64 = 120$ , pa vidimo da ona nema rješenja.

Na kraju zaključujemo da polazna jednačina ima samo dva rješenja u skupu prirodnih brojeva i to

$$(x, y) \in \{(2, 8), (8, 2)\}.$$

◇

**Zadatak 5.** 605 kugli jednakog poluprečnika je podijeljeno na dva dijela. Od jednog dijela je napravljena "uspravna piramida" kojoj je baza kvadrat, a od drugog dijela je napravljena "uspravna piramida" kojoj je baza jednakos-traničan trougao. Objе "piramide" su u visinu složene od jednakog broja redova kugli. Odrediti broj kugli u svakoj "piramidi".

**Rješenje.** Označimo broj redova kugli s  $n$ . Na vrhu četverostrane piramide je jedna kugla. U pretposljednem redu (drugom od vrha) su 4 kugle, u sljedećem je 9 kugli, itd. U prvom redu (u bazi) je  $n^2$  kugli. Označimo li sa  $S_4$  broj kugli u četverostranoj piramidi, onda imamo da vrijedi:

$$S_4 = 1^2 + 2^2 + 3^2 + \dots + n^2.$$

Na vrhu trostrane piramide je jedna kugla. U pretposljednem redu (drugom od vrha) su  $1 + 2 = 3$  kugle, u sljedećem je  $1 + 2 + 3 = 6$  kugli, itd. U prvom redu (u bazi) je  $1 + 2 + 3 + \dots + n = n(n + 1)/2$  kugli. Označimo li sa  $S_3$  broj kugli u trostranoj piramidi, onda imamo da vrijedi:

$$\begin{aligned} S_3 &= 1 + (1 + 2) + (1 + 2 + 3) + \dots + (1 + 2 + 3 + \dots + n) \\ &= n \cdot 1 + (n - 1) \cdot 2 + (n - 2) \cdot 3 + \dots + [n - (n - 1)] \cdot n \\ &= n + 2n + 3n + \dots + n \cdot n - [1 \cdot 2 + 2 \cdot 3 + \dots + (n - 1) \cdot n] \\ &= n(1 + 2 + 3 + \dots + n) - \\ &\quad - [1 \cdot (1 + 1) + 2 \cdot (2 + 1) + 3 \cdot (3 + 1) + \dots + (n - 1)((n - 1) + 1)] \\ &= n \cdot \frac{n(n + 1)}{2} - [1^2 + 1 + 2^2 + 2 + 3^2 + 3 + \dots + (n - 1)^2 + (n - 1)] \\ &= \frac{n^2(n + 1)}{2} - [1^2 + 2^2 + 3^2 + \dots + (n - 1)^2 + n^2] + \\ &\quad + n^2 - [1 + 2 + 3 + \dots + (n - 1)] \\ &= \frac{n^2(n + 1)}{2} - S_4 + n^2 - \frac{(n - 1) \cdot n}{2}. \end{aligned}$$

Dobili smo da je

$$S_3 + S_4 = \frac{n^2(n + 1)}{2} + n^2 - \frac{(n - 1) \cdot n}{2},$$

a kako je  $S_3 + S_4 = 605$ , to imamo jednačinu

$$\frac{n^2(n + 1)}{2} + n^2 - \frac{(n - 1) \cdot n}{2} = 605,$$

koja nakon sređivanja glasi

$$n(n + 1)^2 = 1210.$$

Kako je

$$1210 = 2 \cdot 5 \cdot 11^2,$$

to imamo da je

$$n(n+1)^2 = 10 \cdot 11^2,$$

pa je rješenje jednačine (u skupu prirodnih brojeva)  $n = 10$ .

Sada je lako odrediti broj kugli u svakoj od piramida, i dobijamo da je

$$S_4 = 385 \quad \text{i} \quad S_3 = 220.$$

◇