

Kantonalno takmičenje iz matematike
učenika srednjih škola sa područja TK

07.04.2012

PRVI RAZRED

Zadatak 1. Neka je $\frac{a}{b} = \frac{b}{c}$ gdje su a, b, c realni brojevi različiti od nule. Dokazati da je tada

$$a^2b^2c^2 \left(\frac{1}{a^3} + \frac{1}{b^3} + \frac{1}{c^3} \right) = a^3 + b^3 + c^3$$

Rješenje: Neka je $\frac{a}{b} = \frac{b}{c} = k$. Tada je $b = ck$ i $a = bk = ck \cdot k = ck^2$ pa je

$$\begin{aligned} a^2b^2c^2 \left(\frac{1}{a^3} + \frac{1}{b^3} + \frac{1}{c^3} \right) &= c^2k^4 c^2k^2 c^2 \left(\frac{1}{c^3k^6} + \frac{1}{c^3k^3} + \frac{1}{c^3} \right) = \\ c^6k^6 \left(\frac{1 + k^3 + k^6}{c^3k^6} \right) &= c^3 (1 + k^3 + k^6) = (c)^3 + (ck)^3 + (ck^2)^3 = \\ &= c^3 + b^3 + a^3 = a^3 + b^3 + c^3 \end{aligned}$$

i ovim je dokaz završen.

Zadatak 2. Ako su a, b, c, d pozitivni realni brojevi dokazati da vrijedi nejednakost

$$a^6 + b^6 + c^6 + d^6 - 6abcd \geq -2$$

Kada se dostiže znak jednakosti?

Rješenje: Data nejednakost je ekvivalentna sa

$$a^6 + b^6 + c^6 + d^6 + 2 \geq 6abcd$$

Na osnovu nejednakosti između aritmetičke i geometrijske sredine je

$$\begin{aligned} a^6 + b^6 + c^6 + d^6 + 2 &= a^6 + b^6 + c^6 + d^6 + 1 + 1 \geq \\ &6\sqrt[6]{a^6 \cdot b^6 \cdot c^6 \cdot d^6 \cdot 1 \cdot 1} = 6abcd \end{aligned}$$

pa je ovim dokaz završen.

Da bi se dostigao znak jednakosti mora (zbog posljednje nejednakosti) biti

$$a^6 = b^6 = c^6 = d^6 = 1$$

što implicira da mora biti $a = b = c = d = 1$. Nije teško provjeriti da se za ovu četvorku zaista dostiže znak jednakosti.

Zadatak 3. Neka je $ABCD$ paralelogram a M sredina stranice DC . Ako M leži na simetrali ugla DAB odrediti vrijednost ugla AMB .

Prvo rješenje: Neka je $\angle BAD = \alpha$. Zbog $DC \parallel AB$ je

$$\angle BAM = \angle AMD = \angle DAM = \frac{\alpha}{2}$$

pa je trougao DAM jednakokraki i $DM = DA$ i $\angle DMA = \frac{\alpha}{2}$. No tada je i trougao MCB jednakokraki jer je

$$MC = MD = DA = BC$$

pa je (koristimo i $\angle BCM = \angle BCD = \angle DAB = \alpha$)

$$\angle CMB = \angle CBM = \frac{180^\circ - \angle BCM}{2} = \frac{180^\circ - \alpha}{2} = 90^\circ - \frac{\alpha}{2}$$

Sada lagano računamo

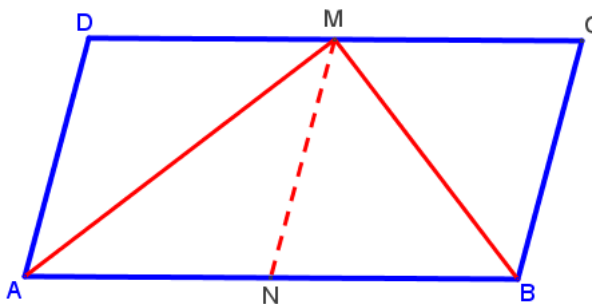
$$\angle AMB = 180^\circ - \angle AMD - \angle CMB = 90^\circ.$$

Drugo rješenje: Neka je N sredina stranice AB . Analogono kao u prvom rješenju zaključujemo da je trougao ADM jednakokraki. Dalje imamo da je $DM = AN$ i $DM \parallel AN$ pa je $ADMN$ paralelogram odakle slijedi da je $MN = AD$ i $DM = AN$ pa je

$$MN = AD = DM = AN = NB$$

a iz $MN = NA = NB$ slijedi da je trougao AMB pravougli i

$$\angle AMB = 90^\circ.$$



Zadatak 4. Riješiti jednačinu

$$p^2 + pq + q^2 = r^2$$

gdje su p i q prosti a r prirodan broj.

Rješenje: Očigledno je $r > p$ i $r > q$. Data jednačina je ekvivalentna sa

$$(p + q)^2 - pq = r^2$$

odakle slijedi

$$(p + q - r)(p + q + r) = pq$$

Kako su p i q prosti i $p + q - r < p + q + r$ i $p + q - r < \min\{p, q\}$ to mora biti

$$p + q - r = 1 \quad p + q + r = pq$$

Iz prve jednačine je $r = p + q - 1$ pa uvrštavajući u drugu imamo

$$2p + 2q - 1 = pq$$

što je ekvivalentno sa

$$(p - 2)(q - 2) = 3$$

odakle slijedi $p = 5$, $q = 3$ ili $p = 3$, $q = 5$ a u oba slučaja je $r = 7$. Dakle sva rješenja date jednačine su

$$(p, q, r) = \{(5, 3, 7), (3, 5, 7)\}$$

DRUGI RAZRED

Zadatak 1. Uprostiti izraz

$$\left(x^{\frac{1}{2}} + y^{\frac{1}{2}}\right)^{-2} (x^{-1} + y^{-1}) + 2 \left(x^{-\frac{1}{2}} + y^{-\frac{1}{2}}\right) \left(x^{\frac{1}{2}} + y^{\frac{1}{2}}\right)^{-3}, \quad x, y > 0$$

Rješenje: Imamo

$$\begin{aligned} & \left(x^{\frac{1}{2}} + y^{\frac{1}{2}}\right)^{-2} (x^{-1} + y^{-1}) + 2 \left(x^{-\frac{1}{2}} + y^{-\frac{1}{2}}\right) \left(x^{\frac{1}{2}} + y^{\frac{1}{2}}\right)^{-3} = \\ & \frac{x + y}{xy (\sqrt{x} + \sqrt{y})^2} + \frac{2(x + y)}{\sqrt{xy} (\sqrt{x} + \sqrt{y})^3} = \\ & = \frac{(x + y) (\sqrt{x} + \sqrt{y}) + 2(x + y) \sqrt{xy}}{xy (\sqrt{x} + \sqrt{y})^3} = \\ & \frac{\sqrt{x}^3 + 3\sqrt{x}^2 \sqrt{y} + 3\sqrt{x} \sqrt{y}^2 + \sqrt{y}^3}{xy (\sqrt{x} + \sqrt{y})^3} = \\ & \frac{(\sqrt{x} + \sqrt{y})^3}{xy (\sqrt{x} + \sqrt{y})^3} = \frac{1}{xy} \end{aligned}$$

Zadatak 2. Odrediti sve trojke $p < q < r$ prostih brojeva takvih da je $p + q = r$ i $(r - p)(q - p) - 27p$ je potpun kvadrat.

Rješenje: Najprije uočimo da, zbog jednakosti $p + q = r$, sva tri broja p, q, r ne mogu biti neparni što implicira da je barem jedan od njih paran i kako je riječ o prostim brojevima to on mora biti jednak 2. Zbog $p < q < r$ je očigledno $p = 2$. Sada trebamo odrediti brojeve r i q takve da je $r = 2 + q$ i da je

$$(r - p)(q - p) - 27p = (r - 2)(q - 2) - 54$$

potpuni kvadrat a uvrstimo li u posljedjem izrazu $r - 2 = q$ trebamo odrediti sve proste brojeve q takve da je

$$q(q - 2) - 54 = k^2$$

za neki nenegativan cio broj k . Posljednja jednakost je ekvivalentna sa

$$(q - 1)^2 - 55 = k^2$$

odakle slijedi

$$(q - 1 - k)(q - 1 + k) = 55$$

Kako je $q - 1 - k < q - 1 + k$ to imamo dvije mogućnosti i to

$$q - 1 - k = 1 \quad q - 1 + k = 55$$

i

$$q - 1 - k = 5 \quad q - 1 + k = 11$$

U prvom slučaju je

$$q - 1 - k + q - 1 + k = 1 + 55$$

odakle slijedi $q = 29$ i $r = 31$ a u drugom slučaju je

$$q - 1 - k + q - 1 + k = 5 + 11$$

odakle slijedi $q = 9$ što nije prost broj pa u ovom slučaju nemamo rješenja.

Dakle $(p, q, r) = (2, 29, 31)$ je jedino rješenje.

Zadatak 3. Neka je M sredina stranice DC kvadrata $ABCD$ a K podnožje normale iz A na BM . Dokazati da je $\angle DAK = \angle DKA$.

Rješenje:

Neka je $\angle BMC = \varphi$. Uočimo da su pravougli trouglovi BMC i AMD podudarni (po pravilu SUS) pa je

$$\angle AMD = \angle BMC = \varphi.$$

Imamo da je

$$\angle ADM + \angle AKM = 90^\circ + 90^\circ = 180^\circ$$

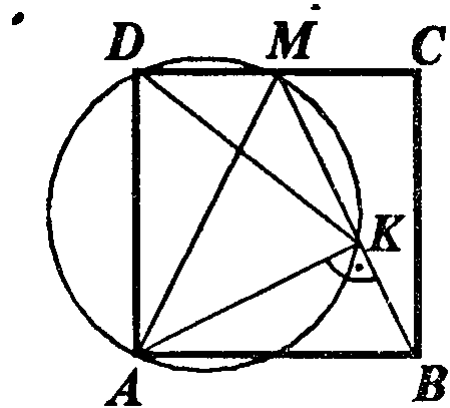
pa je četverougao $DAKM$ tetivan odakle slijedi

$$\angle DKA = \angle DMA = \varphi.$$

Iz istog četverougla imamo

$$\angle DAK = 180^\circ - \angle KMD = 180^\circ - (180^\circ - \varphi) = \varphi$$

Dakle, $\angle DAK = \varphi = \angle DKA$ pa je ovim dokaz završen.



Zadatak 4. Prirodan broj N se sastoji od cifri 1, 2, 3, 4, 5, 6, 7. Ako je poznato da se cifra i pojavljuje tačno $4 \cdot i$ puta u dekadskom zapisu od N , za svako $i = 1, 2, \dots, 7$ (tj. cifra 1 se pojavljuje 4 puta, cifra 2 se pojavljuje $4 \cdot 2 = 8$ puta, ..., cifra 7 se pojavljuje $7 \cdot 4 = 28$ puta) dokazati da N nije potpun kvadrat.

Rješenje: Suma cifara broja N je jednaka

$$4 + 4 \cdot 2 \cdot 2 + \dots + 4 \cdot 7 \cdot 7 = 4(1^2 + 2^2 + \dots + 7^2) = 560 \equiv 2 \pmod{3}$$

pa broj N daje ostatak 2 modulo 3 te stoga ne može biti potpun kvadrat (poznato je da potpuni kvadrati mogu davati samo ostatke 0 i 1 modulo 3).

TREĆI RAZRED

Zadatak 1. Odrediti broj $t \in \mathbb{R}$ takav da je $f(t) = t$ ako je $f(x)$ dato sa

$$f(x) = 5 \cdot 2^{x-1+\sqrt{x^2-2}} - 4^{x+\sqrt{x^2-2}} + 6 + x$$

Rješenje: D.P. $x^2 - 2 \geq 0 \Leftrightarrow x \in (-\infty, -2) \cup [2, +\infty)$.
Jednačina $f(t) = t$ je ekvivalentna jednačini

$$\begin{aligned} 5 \cdot 2^{x-1+\sqrt{x^2-2}} - 4^{x+\sqrt{x^2-2}} + 6 &= 0 \Leftrightarrow \\ 5 \cdot 2^{x-1+\sqrt{x^2-2}} \cdot 2^{-1} - 2^{2(x+\sqrt{x^2-2})} + 6 &= 0 \end{aligned}$$

Smjenom

$$2^{x+\sqrt{x^2-2}} = z > 0$$

i množenjem jednačine sa 2 ona prelazi u oblik

$$2z^2 - 5z - 12 = 0$$

a rješenja posljednje kvadratne jednačine su $z_1 = -\frac{3}{2}$ i $z_2 = 4$.

Rješenje z_1 očigledno ne dolazi u obzir jer je negativno a za $z = 4$ imamo da je

$$2^{x+\sqrt{x^2-2}} = 4$$

odnosno

$$x + \sqrt{x^2 - 2} = 2$$

odakle slijedi

$$\sqrt{x^2 - 2} = 2 - x$$

a nakon kvadriranja nalazimo da je $x = \frac{3}{2}$.

Stoga je traženi broj t jednak $\frac{3}{2}$.

Zadatak 2. Neka je S skup od 10 prirodnih brojeva takav da je suma svih njegovih elemenata jednaka 62. Dokazati da je proizvod svih elemenata skupa S djeljiv sa 60.

Rješenje: Da bi proizvod svih elemenata skupa S bio djeljiv sa 60 dovoljno je dokazati da u njemu postoje: jedan broj djeljiv sa 3, jedan broj djeljiv sa 4 i jedan broj djeljiv sa 5.

Dokažimo najprije da postoji broj djeljiv sa 3. Pretpostavimo suprotno tj. da niti jedan od elemenata skupa S nije djeljiv sa 3. Tada brojevi 3, 6, 9, 12 sigurno nisu elementi skupa S pa je suma njegovih elemenata barem

$$1 + 2 + 4 + 5 + 7 + 8 + 10 + 11 + 13 + 14 = 75 > 62$$

što je u suprotnosti sa uslovom zadatka pa je naša pretpostavka netačna tj. postoji element skupa S djeljiv sa 3. Slično dokazujemo da u S postoje element djeljiv sa 4 kao i element djeljiv sa 5. Naime ako ne bi postojao element djeljiv sa 4 tada 4, 8, 12 sigurno nisu u S pa bi suma njegovih elemenata bila barem

$$1 + 2 + 3 + 5 + 6 + 7 + 9 + 10 + 11 + 13 = 67 > 62$$

a ako ne bi postojao element djeljiv sa 5 tada 5, 10 nisu elementi od S pa bi suma njegovih elemenata bila barem

$$1 + 2 + 3 + 4 + 6 + 7 + 8 + 9 + 11 + 12 = 63 > 62$$

i u oba slučaja bi imali kontradikciju sa uslovom zadatka. Ovim je dokaz završen.

Zadatak 3. Naći sve parove (a, b) prirodnih brojeva koji zadovoljavaju jednakost

$$ab = \text{NZD}(a, b) + \text{NZS}(a, b)$$

gdje $\text{NZD}(a, b)$ označava najveći zajednički djelilac a $\text{NZS}(a, b)$ najmanji zajednički sadržilac brojeva a i b .

Rješenje: Neka je $\text{NZD}(a, b) = d$. Poznato je da je tada $a = da_1$ i $b = db_1$ a $\text{NZS}(a, b) = da_1b_1$. Tako gonja jednakost postaje

$$d^2a_1b_1 = d + da_1b_1$$

te nakon dijeljenja sa d imamo

$$da_1b_1 = 1 + a_1b_1$$

Oдавдје slijedi

$$a_1(db_1 - b_1) = 1$$

što je očigledno moguće samo ako je $a_1 = 1$. Analogno se dokazuje i da je $b_1 = 1$ pa je $a = b = d$ i zbog $da_1b_1 = 1 + a_1b_1$ imamo

$$d = 1 + 1 = 2$$

Dakle, jedino rješenje date jednakosti u skupu prirodnih brojeva je $a = b = 2$.

Zadatak 4. Tačka M je presječna tačka dijagonala kvadrata $ABCD$. Tačka E je simetrična tački M u odnosu na tačku C (tj. E je tačka na produžetku MC , preko vrha C , tako da je $CE = CM$). Sa S označimo tačku u kojoj krug opisan oko trougla BDE siječe dijagonalu AC i $S \neq E$. Dokazati da je S sredina segmenta AM .

Rješenje 1. Neka je dužina stranice kvadrata jednaka a . Tada je $AC = a\sqrt{2} = ME$. Iz pravougloug trougla EMB lagano računamo $BE = \sqrt{\frac{5}{2}}a$. Kako je DBE očigledno jednakokraki to je i $DE = \sqrt{\frac{5}{2}}a$. Centar opisane kružnice trougla EDB leži na simetrali stranice DB a kako je ME simetrala stranice DB to slijedi da je ES prečnik pomenute kružnice i on je jednak (po formuli $2R = \frac{abc}{2P}$)

$$\frac{\sqrt{\frac{5}{2}}a \cdot \sqrt{\frac{5}{2}}a \cdot a\sqrt{2}}{2 \cdot \frac{1}{2} \cdot a\sqrt{2} \cdot a\sqrt{2}} = \frac{5}{4}a\sqrt{2}$$

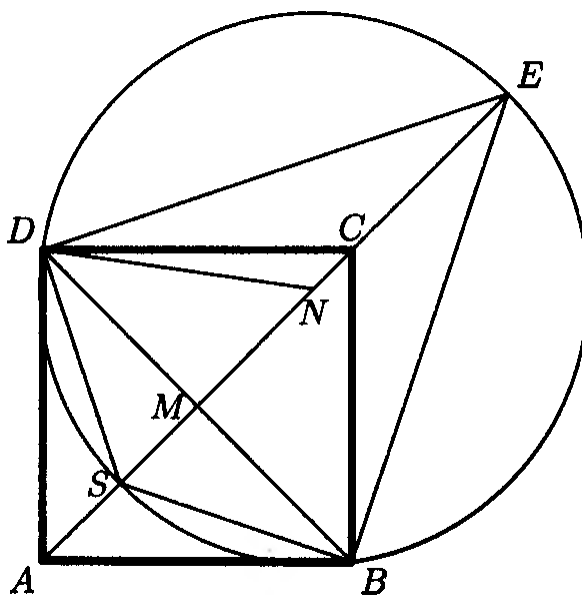
pa sada imamo

$$AS = AE - ES = \frac{3}{2}a\sqrt{2} - \frac{5}{4}a\sqrt{2} = \frac{1}{4}a\sqrt{2} = \frac{AM}{2}$$

a iz posljednje jednakosti direktno slijedi da je S sredina segmenta AM .

Rješenje 2. Analogno kao u prvom rješenju zaključimo da je ES prečnik kružnice opisane oko trougla BDE pa je $\angle SBE = 90^\circ$. Iz toga slijedi da su pravougli trouglovi BME i BMS slični odakle nalazimo

$$\frac{MB}{MS} = \frac{ME}{MB}$$



a odavdje je

$$MS = \frac{MB^2}{ME} = \frac{\left(\frac{a\sqrt{2}}{2}\right)^2}{a\sqrt{2}} = \frac{a\sqrt{2}}{4} = \frac{AM}{2}$$

odakle direktno slijedi da je S sredina segmenta AM .

ČETVRTI RAZRED

Zadatak 1. Tri broja, čiji je zbir 93, čine geometrijski niz. Njih možemo, također, posmatrati i kao prvi, drugi i sedmi član aritmetičkog niza. Naći te brojeve.

Rješenje: Prema uvjetu zadatka je $a_1 = b_1$, $a_2 = b_1 \cdot q$ i $a_7 = b_1 \cdot q^2$. Odavde imamo

$$d = a_2 - a_1 = b_1 (q - 1)$$

$$6d = a_7 - a_1 = b_1 (q^2 - 1)$$

Množeći prvu jednakost sa 6 dobijamo da je

$$6d = 6b_1 (q - 1) = b_1 (q^2 - 1)$$

Jasno je da je $b_1 \neq 0$ jer bi u suprotnom imali $a_1 = a_2 = a_7 = 0$ što je u suprotnosti sa $a_1 + a_2 + a_7 = 93$, pa nakon dijeljenja sa b_1 iz gornje jednakosti imamo

$$6(q - 1) = q^2 - 1$$

odakle je

$$(q - 1)(q - 5) = 0$$

pa je $q = 1$ ili $q = 5$.

Iz uvjeta $b_1 + b_1q + b_1q^2 = 93$ dobijamo $b_1 = 3$ za $q = 5$ ili $b_1 = 31$ za $q = 1$.

Konačno dolazimo do trojki

$$(a_1, a_2, a_3) = \{(3, 15, 75), (31, 31, 31)\}$$

koje su rješenja (lagano se provjerava) datog problema.

Zadatak 2. Ako su a, b, c pozitivni realni brojevi čiji je proizvod jednak 1 dokazati da vrijedi nejednakost

$$2(a^2 + b^2 + c^2) + a + b + c \geq 6 + ab + bc + ca$$

Kada se dostiže znak jednakosti?

Rješenje: Na osnovu nejednakost između aritmetičke i geometrijske sredine je

$$a^2 + b^2 + c^2 \geq 3\sqrt[3]{a^2b^2c^2} = 3$$

$$a + b + c \geq 3\sqrt[3]{abc} = 3$$

Poznato nam je da je $a^2 + b^2 + c^2 \geq ab + bc + ca$ a jedan od načina da se ovo dokaže je (ponovo koristimo nejednakost između aritmetičke i geometrijske sredine)

$$\begin{aligned} a^2 + b^2 + c^2 &= \frac{a^2 + b^2}{2} + \frac{b^2 + c^2}{2} + \frac{c^2 + a^2}{2} \geq \\ &\frac{2\sqrt{a^2b^2}}{2} + \frac{2\sqrt{b^2c^2}}{2} + \frac{2\sqrt{c^2a^2}}{2} = ab + bc + ca \end{aligned}$$

Sabirajući gornje tri nejednakosti dobijamo traženu nejednakost.

Da bi se dostigao znak jednakosti mora, zbog primijenjene nejednakosti između aritmetičke i geometrijske sredine, biti $a = b = c = 1$ i nije teško provjeriti da se za ovu trojku zaista dostiže znak jednakosti.

Zadatak 3. Neka je M sredina stranice AB a N sredina stranice AC jednakostraničnog trougla ABC . Na produžetku duži MN preko vrha N uzeta je tačka P takva da je $MN = NP$ (dakle N je sredina duži MP). Neka je D podnožje normale iz tačke N na AP a Q presječna tačka pravih ND i BC . Dokazati:

- a) $PA \perp AB$
 b) $DQ = \frac{3}{4}BC$

Rješenje: a) Neka je dužina stranice trougla ABC jednaka a . Očigledno je MN srednja linija trougla ABC pa je $MN = \frac{a}{2}$. Zbog izbora tačke P je i $NP = \frac{a}{2}$ pa je $AN = NP = \frac{a}{2}$ tj. trougao ANP je jednakokraki. Kako je $MN \parallel BC$ to je $\angle MNA = \angle BCA = 60^\circ$ pa je $\angle ANP = 120^\circ$. Iz ovoga slijedi da je u jednakokrakom trouglu ANP $\angle NAP = 30^\circ$.

(Ovo se moglo dokazati i na sljedeći način: Budući da se u četverouglu $MAPC$ dijagonale polove to je on paralelogram pa je $\angle CAP = \angle ACM = 30^\circ$)

Sada računamo

$$\begin{aligned}\angle PAB &= \angle PAM = \angle PAN + \angle NAM \\ &= 30^\circ + 60^\circ = 90^\circ\end{aligned}$$

tj. $PA \perp AB$.

b) Trougao ADN je polovina jednakostraničnog trougla pa je

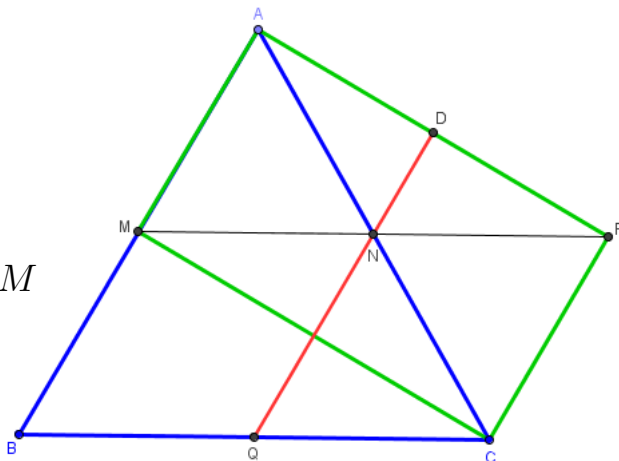
$$DN = \frac{AN}{2} = \frac{a}{4}$$

a kako su QD i BA okomite na AP to je $QD \parallel AB$ pa je $NQ \parallel AB$ i imamo da je N sredina od AC pa je NQ srednja linija trougla ABC što implicira da je

$$NQ = \frac{AB}{2} = \frac{a}{2}$$

Sada imamo

$$DQ = DN + NQ = \frac{a}{4} + \frac{a}{2} = \frac{3}{4}a = \frac{3}{4}BC$$



Zadatak 4. U skupu prostih brojeva riješiti jednačinu

$$p_1^2 = p_2^2 + p_3^2 + p_4^2 + p_5^2 + p_6^2$$

Rješenje: Lagano je provjeriti da za proizvoljan prirodan broj x vrijedi $x^2 \equiv 0 \pmod{3}$ ako je $x \equiv 0 \pmod{3}$ i $x^2 \equiv 1 \pmod{3}$ ako je $x \equiv 1 \pmod{3}$ ili $x \equiv 2 \pmod{3}$. Dakle kvadrat nikada ne može davati ostatak 2 pri dijeljenju sa 3. Ukoliko pretpostavimo da niti jedan od brojeva p_2, \dots, p_6 nije djeljiv sa 3 tada je

$$p_1^2 = p_2^2 + p_3^2 + p_4^2 + p_5^2 + p_6^2 \equiv 5 \equiv 2 \pmod{3}$$

što je zbog prethodnog razmatranja nemoguće odakle slijedi da je bar jedan od pomenutih brojeva djeljiv sa 3 i budući da je riječ o prostim brojevima to on mora biti jednak 3. Bez narušavanja opštosti možemo uzeti da je $p_6 = 3$ i sada dolazimo do jednačine

$$p_1^2 = p_2^2 + p_3^2 + p_4^2 + p_5^2 + 9$$

Ako je x neparan broj tada je $x^2 - 1 = (x - 1)(x + 1)$ i kako je ovo proizvod dva uzastopna parna broja to je on djeljiv sa 8 tj. ako je x neparan broj tada je $x^2 \equiv 1 \pmod{8}$. Stoga, ukoliko su svi brojevi p_2, \dots, p_5 neparni tada je svaki od njihovih kvadrata kongruentan 1 po modulu 8 pa imamo

$$p_1^2 = p_2^2 + p_3^2 + p_4^2 + p_5^2 + 9 \equiv 4 + 9 \equiv 13 \equiv 5 \pmod{8}$$

što je u kontradikciji sa $p_1^2 \equiv 1 \pmod{8}$ (broj p_1 očigledno je veći od 2 pa je samim tim neparan i stoga je njegov kvadrat kongruentan 1 modulo 8).

Dakle barem jedan od brojeva p_2, \dots, p_5 mora biti paran i neka je to bez narušavanja opštosti broj p_5 . Tada je $p_5 = 2$ (jer je p_5 prost). Sada imamo jednakost

$$p_1^2 = p_2^2 + p_3^2 + p_4^2 + 13$$

Primijetimo da sva tri broja p_2, p_3, p_4 ne mogu biti neparni jer bi tada desna strana bila paran a lijeva neparan broj pa je bar jedan od ovih brojeva paran i neka je to (ponovo bez narušavanja opštosti) broj p_4 . Analogno kao maloprije mora biti $p_4 = 2$ pa dolazimo do jednakosti

$$p_1^2 = p_2^2 + p_3^2 + 17$$

Ako pretpostavimo da su oba p_2 i p_3 neparni tada je

$$p_1^2 = p_2^2 + p_3^2 + 17 \equiv 1 + 1 + 17 = 19 \equiv 3 \pmod{8}$$

što je nemoguće pa mora biti barem jedan od njih paran i neka je to bez narušavanja opštosti broj p_3 . Tada je $p_3 = 2$ i imamo

$$p_1^2 = p_2^2 + 21$$

i kako je lijeva strana neparan broj to p_2 mora biti paran pa je $p_2 = 2$ i $p_1^2 = 4 + 21 = 25 \Rightarrow p_1 = 5$.

Konačno, zaključujemo da su sva rješenja date jednačine

$$(p_1, p_2, p_3, p_4, p_5, p_6) = (5, 2, 2, 2, 2, 3)$$

i sve permutacije ove šestorke u kojima 5 ostaje na prvom mjestu.

PRVI RAZREDI:

šifra	Ime takmičara	Škola	Br. Bod.	Mjesto
130	Arnaut Mirza	JU GIMNAZIJA «DR. MUSTAFA KAMARIĆ» GRAČANICA	38	1
129	Nukić Selma	JU GIMNAZIJA «DR. MUSTAFA KAMARIĆ» GRAČANICA	38	1
140	Nurkanović Ajla	JU GIMNAZIJA „MEŠA SELIMOVIĆ“ TUZLA	30	2
133	Dedić Muhamed	JU GIMNAZIJA «DR. MUSTAFA KAMARIĆ» GRAČANICA	26	3
113	Omerbegović Belma	JU GIMNAZIJA „MEŠA SELIMOVIĆ“ TUZLA	25	4
116	Babić Belma	JU GIMNAZIJA „ ISMET MUJEZINOVIĆ“ TUZLA	24	5
145	Čizmić Adis	JU MJEŠOVITA SREDNJA ŠKOLA SREBRENİK	23	6
114	Muminović Emina	JU GIMNAZIJA „MEŠA SELIMOVIĆ“ TUZLA	22	7
110	Mamić Azra	JU GIMNAZIJA ŽIVINICE	22	7
108	Oštraković Mirsad	JU GIMNAZIJA „MEŠA SELIMOVIĆ“ TUZLA	22	7
156	Jukić Džemal	JU MJEŠOVITA SREDNJA ŠKOLA SREBRENİK	21	8
154	Gušić Seid	JU MS GRAĐEVINSKO-GEODETSKA ŠKOLA TUZLA	21	8
160	Dumonjić Anela	JU GIMNAZIJA „MUSTAFA NOVALIĆ“ GRADAČAC	20	9
155	Bajić Adnan	JU GIMNAZIJA „MEŠA SELIMOVIĆ“ TUZLA	20	9
127	Iljazović Ina	JU GIMNAZIJA «DR. MUSTAFA KAMARIĆ» GRAČANICA	20	9
107	Nakičević Ajdin	JU GIMNAZIJA „MEŠA SELIMOVIĆ“ TUZLA	20	9
139	Nurkanović Semin	JU GIMNAZIJA „MEŠA SELIMOVIĆ“ TUZLA	20	10
159	Tankić Mahira	JU GIMNAZIJA „MUSTAFA NOVALIĆ“ GRADAČAC	16	11
143	Novalić Tarik	JU GIMNAZIJA „MUSTAFA NOVALIĆ“ GRADAČAC	16	11
126	Čanić Davor	JU KŠC „SVETI FRANJO“ TUZLA	16	11
141	Abdulahović Adnan	JU MJEŠOVITA SREDNJA ŠKOLA TEOČAK	15	12
118	Krdžalić Amina	BEHRAMBEGOVA MEDRESA TUZLA	15	12
134	Altumbabić Zlatan	JU KŠC „SVETI FRANJO“ TUZLA	14	13
109	Gvozden Amra	JU MJEŠOVITA SREDNJA ŠKOLA SREBRENİK	14	13
122	Bačinović Said	JU MS ŠKOLA DOBOJ ISTOK BRIJESNICA VELIKA	13	14
157	Omerović Aldin	JU MJEŠOVITA SREDNJA ŠKOLA SAPNA	12	15
106	Jukan Ajnur	JU GIMNAZIJA „MUSTAFA NOVALIĆ“ GRADAČAC	12	15
165	Mulić Ermina	JU MJEŠOVITA SREDNJA ŠKOLA BANOVIĆI	11	16
151	Jalmanović Neira	JU SREDNJA MEDICINSKA ŠKOLA TUZLA	11	16
142	Mahmutbegović Emina	JU GIMNAZIJA ŽIVINICE	11	16
128	Meša Suljo	BEHRAMBEGOVA MEDRESA TUZLA	11	16
125	Hodžić Amir	JU GIMNAZIJA «DR. MUSTAFA KAMARIĆ» GRAČANICA	11	16
112	Ramić Amar	JU SREDNJA MEDICINSKA ŠKOLA TUZLA	11	16
102	Halilović Suad	JU MS ELEKTROMAŠINSKA ŠKOLA LUKAVAC	11	16
144	Čajić Senada	JU GIMNAZIJA LUKAVAC	10	17
136	Bačinović Đulzada	JU MS ŠKOLA DOBOJ ISTOK BRIJESNICA VELIKA	10	17
132	Ilić Renata	JU GIMNAZIJA „ ISMET MUJEZINOVIĆ“ TUZLA	10	17
115	Kovačević Lejla	JU SREDNJA MEDICINSKA ŠKOLA TUZLA	10	17
164	Aljić Amina	JU GIMNAZIJA ŽIVINICE	9	18
161	Osmić Emina	JU GIMNAZIJA LUKAVAC	8	19
158	Omerbegović Samir	JU MSS ŽIVINICE	8	19
117	Pejić Ivan	JU KŠC „SVETI FRANJO“ TUZLA	8	19
167	Đaković Martina	JU MS ELEKTROMAŠINSKA ŠKOLA LUKAVAC	7	20
135	Halilčević Mirza,	JU MS ELEKTROTEHNIČKA ŠKOLA TUZLA	7	20
131	Gurdić Azra	JU GIMNAZIJA „ ISMET MUJEZINOVIĆ“ TUZLA	7	20
148	Buljić Emir	JU MJEŠOVITA SREDNJA ŠKOLA GRAČANICA	6	21
120	Mustafić Osman	JU MS ŠKOLA DOBOJ ISTOK BRIJESNICA VELIKA	6	21

124	Eminagić Armin,	JU MS ELEKTROTEHNIČKA ŠKOLA TUZLA	5	22
166	Voloder Ammar	JU MS ELEKTROMAŠINSKA ŠKOLA LUKAVAC	4	23
153	Čizmić Dženita	JU MS GRAĐEVINSKO-GEODETSKA ŠKOLA TUZLA	4	23
150	Kovačević Nermin	JU MJEŠOVITA SREDNJA ŠKOLA BANOVIĆI	4	23
137	Kovačević Tarik	BEHRAMBEGOVA MEDRESA TUZLA	4	23
123	Hasanbegović Nedim,	JU MS ELEKTROTEHNIČKA ŠKOLA TUZLA	4	23
119	Pamuković Almedina	JU MS ŠKOLA „HASAN KIKIĆ“ GRADAČAC	4	23
163	Mustafić Mejra	JU MJEŠOVITA SREDNJA ŠKOLA GRAČANICA	3	24
146	Osmanović Kenan	JU MS EKONOMSKO HEMIJSKA ŠKOLA LUKAVAC	2	25
105	Jahić Emina	JU MSŠ ŽIVINICE	2	25
104	Brčaninović Muris	JU MSŠ ŽIVINICE	2	25
101	Glibanović Dino	JU MS EKONOMSKO HEMIJSKA ŠKOLA LUKAVAC	2	25
168	Hodžić Refik	JU MJEŠOVITA SREDNJA ŠKOLA TEOČAK	1	
162	Mujanović Ajša	JU MS TRGOVINSKA ŠKOLA TUZLA	1	
152	Božić Tijana	JU MS ELEKTROMAŠINSKA ŠKOLA LUKAVAC	1	
149	Mahmutović Admira	JU MJEŠOVITA SREDNJA ŠKOLA SAPNA	1	
147	Gračankić Mehdina	JU MS TRGOVINSKA ŠKOLA TUZLA	1	
138	Suad Omerović	JU MS TURISTIČKO UGOSTITELJSKA ŠKOLA TUZLA	1	
121	Amir Karanović	JU MS TURISTIČKO UGOSTITELJSKA ŠKOLA TUZLA	1	
111	Mahovkić Dženis	JU MS EKONOMSKO HEMIJSKA ŠKOLA LUKAVAC	1	
103	Hasić Enes	JU MS HEMIJSKA ŠKOLA TUZLA	1	

DRUGI RAZREDI:

šifra	Ime takmičara	Škola	Br. bod.	Mjesto
202	Halilčević Samir	JU GIMNAZIJA ŽIVINICE	40	1
254	Hadžić Irma	JU KŠC „SVETI FRANJO“ TUZLA	32	2
261	Elamin Mariam	JU MEĐUNARODNA SREDNJA ŠKOLA TUZLA	27	3
201	Muratović Amra	JU GIMNAZIJA ŽIVINICE	24	4
271	Babović Anela	JU GIMNAZIJA „ ISMET MUJEZINOVIĆ“ TUZLA	21	5
243	Jukić Selina	JU GIMNAZIJA „MEŠA SELIMOVIĆ“ TUZLA	21	5
235	Okanović Adnan	JU GIMNAZIJA «DR. MUSTAFA KAMARIĆ» GRAČANICA	20	6
270	Isabegović Elvira	JU GIMNAZIJA „ ISMET MUJEZINOVIĆ“ TUZLA	20	7
272	Salihović Ina	JU MEĐUNARODNA SREDNJA ŠKOLA TUZLA	17	8
231	Omerović Semir	JU MJEŠOVITA SREDNJA ŠKOLA SREBRENİK	16	9
250	Džananaović Lejla	JU GIMNAZIJA «DR. MUSTAFA KAMARIĆ» GRAČANICA	15	10
252	Mumić Seid	JU GIMNAZIJA „MEŠA SELIMOVIĆ“ TUZLA	14	11
266	Jašić Elmedin	BEHRAMBEGOVA MEDRESA TUZLA	13	12
247	Ajanović Benjamin	JU GIMNAZIJA „MUSTAFA NOVALIĆ“ GRADAČAC	13	12
205	Malagić Belma	JU GIMNAZIJA LUKAVAC	13	12
245	Novalić Jasmin	JU GIMNAZIJA „MUSTAFA NOVALIĆ“ GRADAČAC	12	13
227	Hrnjičić Melika	JU GIMNAZIJA LUKAVAC	11	14
268	Kikanović Ena	JU GIMNAZIJA „ ISMET MUJEZINOVIĆ“ TUZLA	10	15
206	Kuralić Haris	JU SREDNJA MEDICINSKA ŠKOLA TUZLA	10	15
249	Mustajbašić Džemo	JU GIMNAZIJA «DR. MUSTAFA KAMARIĆ» GRAČANICA	9	16
251	Šečić Jasmin	JU MJEŠOVITA SREDNJA ŠKOLA SREBRENİK	8	17
244	Šutić Samra	JU GIMNAZIJA «DR. MUSTAFA KAMARIĆ» GRAČANICA	8	17
233	Hodžić Lejla	JU MJEŠOVITA SREDNJA ŠKOLA SREBRENİK	7	18
230	Sinanović Zlatan	JU GIMNAZIJA LUKAVAC	7	18
262	Fazlić Iman	JU KŠC „SVETI FRANJO“ TUZLA	6	19
242	Babić Zejna	JU SŠ "DOBOJ-ISTOK" BRIJESNICA VELIKA	6	19
211	Jahić Anela	JU MJEŠOVITA SREDNJA ŠKOLA BANOVIĆI	6	19
241	Turić Selma	JU MJEŠOVITA SREDNJA ŠKOLA BANOVIĆI	5	20
232	Muratović Adelisa	JU GIMNAZIJA „MEŠA SELIMOVIĆ“ TUZLA	5	20
225	Kolčaković Nihad	JU MS GRAĐEVINSKO-GEODETSKA ŠKOLA TUZLA	5	20
221	Hrnjičić Lejla	JU GIMNAZIJA LUKAVAC	5	20
220	Brkić Amra	JU MS ELEKTRO-MAŠINSKA ŠKOLA LUKAVAC	5	20
218	Fazlić Adela	JU SREDNJA MEDICINSKA ŠKOLA TUZLA	5	20
210	Nurić Kenan	JU MS MAŠINSKA TEHNIČKA ŠKOLA TUZLA	5	20
222	Mahmutović Ajdin	JU MS ELEKTRO-MAŠINSKA ŠKOLA LUKAVAC	4	21
207	Muminhodžić Amina	JU SREDNJA MEDICINSKA ŠKOLA TUZLA	4	21
204	Kujuković Nusret	JU MJEŠOVITA SREDNJA ŠKOLA ŽIVINICE	4	21
255	Krdžalić Kanita	BEHRAMBEGOVA MEDRESA TUZLA	3	22
239	Bijelić Omer	JU MS ŠKOLA „HASAN KIKIĆ“ GRADAČAC	3	22
229	Arnautović Asja	JU MJEŠOVITA SREDNJA ŠKOLA BANOVIĆI	3	22
224	Čaušević Safet	JU MJEŠOVITA SREDNJA ŠKOLA ŽIVINICE	3	22
214	Fočaković Belmin	JU MS RUDARSKA ŠKOLA TUZLA	3	22
269	Sukanović Semra	JU MEĐUNARODNA SREDNJA ŠKOLA TUZLA	2	23
267	Halilović Amer	BEHRAMBEGOVA MEDRESA TUZLA	2	23
260	Smajić Tarik	JU GIMNAZIJA „MEŠA SELIMOVIĆ“ TUZLA	2	23
257	Džanić Mustafa	JU MS ELEKTROTEHNIČKA ŠKOLA TUZLA	2	23
253	Harčinović Amila	JU MJEŠOVITA SREDNJA ŠKOLA SREBRENİK	2	23

246	Šaran Mario	JU KŠC „SVETI FRANJO“ TUZLA	2	23
237	Alić Enid	JU GIMNAZIJA «DR. MUSTAFA KAMARIĆ» GRAČANICA	2	23
236	Klapić Namik	JU MS ELEKTROTEHNIČKA ŠKOLA TUZLA	2	23
228	Arnautović Nehra	JU MJEŠOVITA SREDNJA ŠKOLA BANOVIĆI	2	23
223	Šarić Ramo	JU MJEŠOVITA SREDNJA ŠKOLA ŽIVINICE	2	23
219	Divković Marko	JU MS RUDARSKA ŠKOLA TUZLA	2	23
217	Hrvić Emina	JU GIMNAZIJA ŽIVINICE	2	23
216	Hodžić Edina	JU GIMNAZIJA ŽIVINICE	2	23
215	Osmanović Adin	JU MS ELEKTRO-MAŠINSKA ŠKOLA LUKAVAC	2	23
209	Đulović Ilma	JU MS HEMIJSKA ŠKOLA TUZLA	2	23
264	Belma Krajinović	JU MS ŠKOLA TURISTIČKO UGOSTITELJSKA ŠKOLA	1	24
259	Fazlić Šaban	JU MS ŠKOLA „HASAN KIKIĆ“ GRADAČAC	1	24
256	Sagdati Ahmed	JU MS ELEKTROTEHNIČKA ŠKOLA TUZLA	1	24
248	Omerović Almedin	JU MJEŠOVITA SREDNJA ŠKOLA SAPNA	1	24
240	Šahović Maida	JU GIMNAZIJA „MEŠA SELIMOVIĆ“ TUZLA	1	24
238	Haskić Fatima	JU MS ŠKOLA „HASAN KIKIĆ“ GRADAČAC	1	24
234	Memić Dženita	JU MJEŠOVITA SREDNJA ŠKOLA SAPNA	1	24
226	Mahmutbegović Nezir	JU MS HEMIJSKA ŠKOLA TUZLA	1	24
208	Selimović Adnan	JU MS GRAĐEVINSKO-GEODETSKA ŠKOLA TUZLA	1	24
265	Belmina Muratović	JU MS ŠKOLA TURISTIČKO UGOSTITELJSKA ŠKOLA	1	
263	Zehić Haris	JU MS ŠKOLA „HASAN KIKIĆ“ GRADAČAC	1	
258	Šaldić Ferida	JU MS ŠKOLA „HASAN KIKIĆ“ GRADAČAC	1	
213	Pejić Vedran	JU MS ELEKTRO-MAŠINSKA ŠKOLA LUKAVAC	1	
212	Avdihodžić Nedim	JU MS RUDARSKA ŠKOLA TUZLA	1	
203	Jusufović Almedina	JU MJEŠOVITA SREDNJA ŠKOLA ŽIVINICE	1	

TREĆI RAZREDI:

šifra	Ime takmičara	Škola	Br. Bod.	Mjesto
310	Pejić Mladen	JU KŠC „SVETI FRANJO“ TUZLA	39	1
322	Ibrić Adnan	JU GIMNAZIJA LUKAVAC	32	2
311	Kulić Medina	JU GIMNAZIJA «DR. MUSTAFA KAMARIĆ» GRAČANICA	28	3
323	Omić Merima	JU GIMNAZIJA „MUSTAFA NOVALIĆ“ GRADAČAC	21	4
320	Delić Sulejman	JU GIMNAZIJA «DR. MUSTAFA KAMARIĆ» GRAČANICA	20	5
308	Brčaninović Amila	JU GIMNAZIJA ŽIVINICE	13	6
307	Hasanović Mirza	JU GIMNAZIJA „MUSTAFA NOVALIĆ“ GRADAČAC	13	6
306	Mulahalilović Amila	JU GIMNAZIJA „MUSTAFA NOVALIĆ“ GRADAČAC	13	6
305	Omerčić Anida	JU GIMNAZIJA LUKAVAC	13	6
326	Mamić Hanifa	JU GIMNAZIJA ŽIVINICE	10	7
321	Gvozden Amir	JU MJEŠOVITA SREDNJA ŠKOLA SREBRENİK	10	7
315	Bošnjik Benjamin	JU MS ELEKTROTEHNIČKA ŠKOLA TUZLA	10	7
302	Sinanović Fatima	BEHRAMBEGOVA MEDRESA TUZLA	9	8
324	Almedina Hamzić	JU MS GRAĐEVINSKO-GEODETSKA ŠKOLA TUZLA	8	9
319	Isaković Salko	JU GIMNAZIJA „ ISMET MUJEZINOVIĆ“ TUZLA	8	9
303	Mustafić Edvina	JU GIMNAZIJA „ ISMET MUJEZINOVIĆ“ TUZLA	8	9
329	Jamaković Majda	JU MJEŠOVITA SREDNJA ŠKOLA BANOVIĆI	6	10
318	Muratović Fehro	JU GIMNAZIJA „MEŠA SELIMOVIĆ“ TUZLA	5	11
304	Nurić Nermin	JU GIMNAZIJA «DR. MUSTAFA KAMARIĆ» GRAČANICA	4	12
332	Lušničkić Almir	JU MS ŠKOLA „HASAN KIKIĆ“ GRADAČAC	3	13
317	Rešidović Dženita	JU MJEŠOVITA SREDNJA ŠKOLA SREBRENİK	3	13
313	Hrvic Menisa	JU GIMNAZIJA LUKAVAC	3	13
312	Smajlović Sabina	JU GIMNAZIJA „ ISMET MUJEZINOVIĆ“ TUZLA	3	13
314	Tabučić Amar	BEHRAMBEGOVA MEDRESA TUZLA	2	14
333	Zenunović Irma	JU GIMNAZIJA „MEŠA SELIMOVIĆ“ TUZLA	1	15
331	Bektić Sejdalija	JU MS ELEKTROMAŠINSKA ŠKOLA LUKAVAC	1	15
330	Prelić Aldin	JU MS ELEKTROTEHNIČKA ŠKOLA TUZLA	1	15
328	Babić Nedim	JU MS ŠKOLA DOBOJ ISTOK BRIJESNICA VELIKA	1	15
325	Lika Alen	JU GIMNAZIJA „MUSTAFA NOVALIĆ“ GRADAČAC	1	15
309	Imamović Emina	JU GIMNAZIJA „MUSTAFA NOVALIĆ“ GRADAČAC	1	15
327	Gavranović Senada	JU MJEŠOVITA SREDNJA RUDARSKA ŠKOLA TUZLA	1	
316	Merima Čelahmetović	JU MS ŠKOLA TURISTIČKO UGOSTITELJSKA ŠKOLA	1	
301	Amina Turković	JU MS ŠKOLA TURISTIČKO UGOSTITELJSKA ŠKOLA	1	

ČETVRTI RAZREDI:

Šifra	Ime takmičara	Škola	Br. Bod.	Mjesto
403	Čilašević Muhamed	JU GIMNAZIJA "MEŠA SELIMOVIĆ" TUZLA	40	1
410	Husić Edin	JU GIMNAZIJA "MEŠA SELIMOVIĆ" TUZLA	38	2
417	Suljić Edmir	JU MJEŠOVITA SREDNJA ŠKOLA SREBRENİK	34	3
405	Matičević Robert	JU KŠC „SVETI FRANJO“ TUZLA	33	4
402	Ibrakić Almedin	JU MS ELEKTRO-MAŠINSKA ŠKOLA LUKAVAC	33	4
427	Smajlović Haris	JU GIMNAZIJA "MEŠA SELIMOVIĆ" TUZLA	31	5
407	Hodžić Nudžejma	JU GIMNAZIJA «DR. MUSTAFA KAMARIĆ» GRAČANICA	30	6
426	Nurikić Almin	JU GIMNAZIJA "MEŠA SELIMOVIĆ" TUZLA	23	7
406	Jagodić Amira	JU GIMNAZIJA ŽIVINICE	22	8
401	Džanić Ademir	JU MJEŠOVITA SREDNJA ŠKOLA SREBRENİK	22	8
428	Delić Haris	JU GIMNAZIJA «DR. MUSTAFA KAMARIĆ» GRAČANICA	19	9
418	Dedić Edin	JU MS ŠKOLA DOBOJ ISTOK BRIJESNICA VELIKA	19	9
425	Gazetić Elma	JU GIMNAZIJA "ISMET MUJEZINOVIĆ" TUZLA	14	10
420	Mekić Nusmir	JU GIMNAZIJA "ISMET MUJEZINOVIĆ" TUZLA	13	11
416	Goletić Lejla	JU GIMNAZIJA ŽIVINICE	13	11
409	Lipjankić Amer	JU MJEŠOVITA SREDNJA ŠKOLA SREBRENİK	11	12
422	Čičkušić Zerina	BEHRAMBEGOVA MEDRESA TUZLA	9	
412	Kasumović Majda	JU MJEŠOVITA SREDNJA ŠKOLA BANOVIĆI	9	
429	Salihović Mirnes	JU MJEŠOVITA SREDNJA ŠKOLA GRAČANICA	8	
408	Ferhatbegović Bahrija	JU GIMNAZIJA ŽIVINICE	8	
404	Džinić Adnan	JU GIMNAZIJA «DR. MUSTAFA KAMARIĆ» GRAČANICA	7	
424	Hasić Amir	JU MJEŠOVITA SREDNJA ŠKOLA GRAČANICA	2	
419	Salihović Admir	JU MS ELEKTROTEHNIČKA ŠKOLA TUZLA	2	
414	Gobeljić Jasmin	BEHRAMBEGOVA MEDRESA TUZLA	2	
421	Smajlović Sanela	JU MJEŠOVITA SREDNJA ŠKOLA BANOVIĆI	1	
413	Dedić Mirald	JU MS ELEKTROTEHNIČKA ŠKOLA TUZLA	1	
423	Babajić Ahmo	JU MJEŠOVITA SREDNJA ŠKOLA GRAČANICA	1	
415	Taletović Mujo	JU MS ŠKOLA „HASAN KIKIĆ“ GRADAČAC	1	
411	Skopljak Dženana	JU MS ŠKOLA DOBOJ ISTOK BRIJESNICA VELIKA	1	