



57. TAKMIČENJE MLADIH MATEMATIČARA BOSNE I HERCEGOVINE
FEDERALNO TAKMIČENJE UČENIKA SREDNJIH ŠKOLA
Bugojno, 01.04.2017. godine

PRVI RAZRED

1. Neka su a, b, c realni brojevi takvi da je $abc(a+b)(b+c)(c+a) \neq 0$ i da vrijedi

$$(a+b+c) \left(\frac{1}{a} + \frac{1}{b} + \frac{1}{c} \right) = \frac{1007}{1008}.$$

Dokazati da je tada

$$\frac{ab}{(a+c)(b+c)} + \frac{bc}{(c+a)(a+b)} + \frac{ca}{(a+b)(b+c)} = 2017.$$

2. Dokazati da se brojevi $1, 2, \dots, 16$ mogu poredati u niz tako da je zbir bilo koja dva susjedna broja kvadrat nekog prirodnog broja.
3. Da li postoji prirodan broj n takav da je suma svih cifara u decimalnom zapisu broja $n(4n+1)$ jednaka 2017? Obrazložiti!
4. U jednakokrakom trouglu $\triangle ABC$ ($|AB| = |AC|$) ugao pri vrhu A iznosi 108° . Simetrala ugla $\sphericalangle ABC$ siječe stranicu \overline{AC} u tački D , a tačka E je na stranici \overline{BC} takva da je $|BE| = |AE|$. Ako se zna da je $|AE| = m$, izračunati $|ED|$.

Trajanje izrade zadataka je 210 minuta.

Svaki zadatak vrijedi 7 bodova.

Sretno!

1. Neka su a, b, c realni brojevi za koje vrijedi $abc(a+b)(b+c)(c+a) \neq 0$
Ako je

$$(a+b+c)\left(\frac{1}{a} + \frac{1}{b} + \frac{1}{c}\right) = \frac{1007}{1008}$$

Dokazati da je

$$\frac{ab}{(b+c)(c+a)} + \frac{bc}{(c+a)(a+b)} + \frac{ca}{(a+b)(b+c)} = 2017$$

Rjesenje:

$$\begin{aligned} & \frac{ab}{(b+c)(c+a)} + \frac{bc}{(c+a)(a+b)} + \frac{ca}{(a+b)(b+c)} = \\ & = \frac{ab(a+b) + bc(b+c) + ca(c+a)}{(a+b)(b+c)(c+a)} = \frac{(a+b+c)(ab+bc+ca) - 3abc}{(a+b+c)(ab+bc+ca) - abc} = \\ & = \frac{(a+b+c)\left(\frac{1}{a} + \frac{1}{b} + \frac{1}{c}\right) - 3}{(a+b+c)\left(\frac{1}{a} + \frac{1}{b} + \frac{1}{c}\right) - 1} = \frac{\frac{1007}{1008} - 3}{\frac{1007}{1008} - 1} = 2017 \end{aligned}$$

2. Dokazati da se brojevi od 1 do 16 mogu poredati u niz tako da je zbir svaka dva susjedna člana kvadrat nekog prirodnog broja,

Rjesenje:

16, 9, 7, 2, 14, 11, 5, 4, 12, 13, 3, 6, 10, 15, 1, 8

Je jedno od traženih redanja.

3. Da li postoji prirodan broj n , takav da je zbir cifara u decimalnom zapisu broja $n(4n + 1)$ jednaka 2017. Obrazložiti!

Rjesenje:

Ako je $n = 3k + 2$ ili je $n = 3k$ tada je $n(4n + 1)$ djeljiv sa 3.
No broj je djeljiv sa 3 ako i samo ako mu je zbir cifara djeljiv sa 3.
Neka je $n = 3k + 1$. Tada broj $n(4n + 1)$ daje ostatak 2 pri dijeljenju sa brojem 3. Neka je $S(n)$ zbir cifara broja n .
Posmatrajmo broj $n(4n + 1) - 2$.
Ako je posljednja cifra broja $n(4n + 1)$ veća od 2, tada je

$$S(n(4n + 1) - 2) = S(n(4n + 1)) - 2 \Rightarrow S(n(4n + 1)) = S(n(4n + 1) - 2) + 2$$

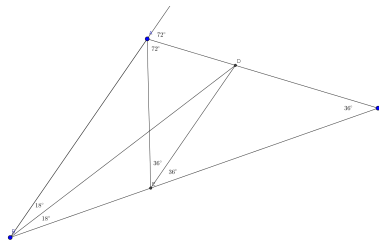
No broj $n(4n + 1) - 2$ je djeljiv sa tri, te je i suma njegovih cifara djeljiva sa 3. Dakle suma cifara broja $n(4n + 1)$ daje ostatak 2 pri dijeljenju sa 3, pa ne može biti jednaka 2017, jer broj 2017 pri dijeljenju sa 3 daje ostatak 1.
Ako je posljednja cifra broja $n(4n + 1)$ manja od 3 tada je

$$S(n(4n + 1) - 2) = S(n(4n + 1)) - 2 + 9 \Rightarrow S(n(4n + 1)) = S(n(4n + 1) - 2) + 7$$

No broj $n(4n + 1) - 2$ je djeljiv sa tri, te je i suma njegovih cifara djeljiva sa 3. Dakle suma cifara broja $n(4n + 1)$ daje ostatak 2 pri dijeljenju sa 3, pa ne može biti jednaka 2017, jer broj 2017 pri dijeljenju sa 3 daje ostatak 1.

4. U jednakokrakom trouglu $\triangle ABC$, ($AB = BC$) ugao pri vrhu A iznosi 108° . Simetrala ugla $\angle ABC$ sijece stranicu AC u tacki D , a tacka E je na stranici BC , takva da je $BE = AE$. Ako se zna da je $AE = m$, izracunati ED .

Rjesenje:



Kako je $AB = AC$ to je $\angle ABC = \angle ACB = 36^\circ$.

Kako je $EA = EB$ to je $\angle EAB = \angle EBA = 72^\circ$. No tada je

$$\angle CAE = 108^\circ - 36^\circ = 72^\circ \Rightarrow$$

AC je simetrala vanjskog ugla trougla $\triangle AEB$, te je D centar pripisane kruznice trougla $\triangle AEB$. Dakle ED je simetrala ugla $\angle AEC$. Odavde je

$$\angle DEA = \angle DEC = 36^\circ \Rightarrow \angle ADE = 72^\circ \Rightarrow ED = AE = m$$



57. TAKMIČENJE MLADIH MATEMATIČARA BOSNE I HERCEGOVINE
FEDERALNO TAKMIČENJE UČENIKA SREDNJIH ŠKOLA
Bugojno, 01.04.2017. godine

DRUGI RAZRED

1. Neka je a realan broj takav da su x_1 i x_2 realni i međusobno različiti korijeni jednačbe $x^2 - x + a = 0$. Dokazati da je $|x_1^2 - x_2^2| = 1$ ako i samo ako je $|x_1^3 - x_2^3| = 1$.
2. Dat je trougao $\triangle ABC$. Neka simetrale unutrašnjeg i vanjskog ugla kod vrha A sijeku pravu BC u tačkama D i E , redom, a kružnica opisana oko trougla $\triangle ADE$ siječe pravu AC u tački F . Pokazati da je FD simetrala ugla $\sphericalangle BFC$.
3. Naći sve različite proste brojeve p, q, r, s takve da je njihov zbir prost broj, a brojevi $p^2 + qr$ i $p^2 + qs$ su kvadrati prirodnih brojeva.
4. Neka je S skup n različitih realnih brojeva, a A_S skup aritmetičkih sredina dva različita broja iz S . Za dati $n \geq 2$ odrediti najmanji mogući broj elemenata u skupu A_S .

Trajanje izrade zadataka je 210 minuta.

Svaki zadatak vrijedi 7 bodova.

Sretno!

1. Neka je a realan broj takav da su x_1 i x_2 realni i medjusobno razliciti korijeni jednadzbe $x^2 - x + a = 0$.

Dokazati da je $|x_1^2 - x_2^2| = 1$ ako i samo ako je $|x_1^3 - x_2^3| = 1$

Rjesenje:

Koristeci Vijetova pravila je

$$x_1 + x_2 = 1 \quad (1)$$

$$|x_1^3 - x_2^3| - 1 = |x_1 - x_2| \cdot \left| \frac{3}{4}(x_1 + x_2)^2 + \frac{1}{4}(x_1 - x_2)^2 \right| - 1 = |x_1 - x_2| \cdot \left| \frac{3}{4} + \frac{1}{4}(x_1 - x_2)^2 \right| - 1 =$$

$$= \frac{1}{4} \cdot |x_1 - x_2| \cdot (3 + |x_1 - x_2|^2) - 1 \stackrel{(1)}{=} \frac{1}{4} \cdot |x_1^2 - x_2^2| \cdot (3 + |x_1^2 - x_2^2|) - 1 =$$

$$= \frac{1}{4} \cdot (|x_1^2 - x_2^2|^3 + 3|x_1^2 - x_2^2|^2 - 4) = \frac{1}{4} \cdot (|x_1^2 - x_2^2| - 1) \cdot (|x_1^2 - x_2^2|^2 + |x_1^2 - x_2^2| + 4) =$$

$$= \frac{1}{4} \cdot (|x_1^2 - x_2^2| - 1) \cdot \left[(|x_1^2 - x_2^2| + \frac{1}{2})^2 + \frac{15}{4} \right]$$

Dakle imamo da je

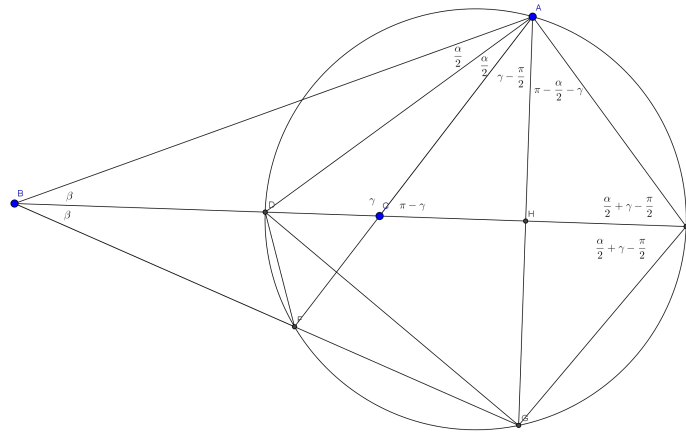
$$|x_1^3 - x_2^3| - 1 = \frac{1}{4} \cdot (|x_1^2 - x_2^2| - 1) \cdot \left[(|x_1^2 - x_2^2| + \frac{1}{2})^2 + \frac{15}{4} \right]$$

Odakle je

$$|x_1^3 - x_2^3| - 1 = 0 \Leftrightarrow |x_1^2 - x_2^2| - 1 = 0$$

2. Dat je trougao $\triangle ABC$. Neka simetrale unutarnjeg i vanjskog ugla kod vrha A sijeku pravu BC u tackama D i E redom, a kruznica opisana oko trougla $\triangle ADE$ sijece pravu AC u tacki F .
Dokazati da je FD simetrala ugla $\angle BFC$.

Rjesenje:



Neka je $\angle BAC = \alpha, \angle ABC = \beta, \angle ACB = \gamma$
Neka je H podnozje okomice spustene iz A na BC , neka je k kruznica opisana oko trougla $\triangle ADE$. Neka k sijece pravu AH u tacki $G \neq A$. Kako je $\angle DAE = \frac{\pi}{2}$ to je DE prečnik kruznice k te vrijedi $AH = HG$

$$\angle AFG = \angle ADG = 2\angle HDA = 2\left(\pi - \frac{\alpha}{2} - \gamma\right)$$

$$\angle AFD = \angle AED = \frac{\alpha}{2} + \gamma - \frac{\pi}{2}$$

$$\angle FDE = \angle FAE = \frac{\pi - \alpha}{2} \Rightarrow \angle FDB = \pi - \frac{\pi - \alpha}{2} = \frac{\pi + \alpha}{2} \Rightarrow$$

$$\angle DFB = \pi - \left(\beta + \frac{\pi + \alpha}{2}\right) = \frac{\pi}{2} - \beta - \frac{\alpha}{2}$$

Sada imamo

$$\angle AFG + \angle AFD + \angle DFB = 2\pi - \alpha - 2\gamma + \frac{\alpha}{2} + \gamma - \frac{\pi}{2} + \frac{\pi}{2} - \beta - \frac{\alpha}{2} = 2\pi - (\alpha + \beta + \gamma) = \pi$$

Dakle tacke G, F, B su kolinearne, te je tacka D centar kruznice upisane u trougao $\triangle AFB$, dakle FD je simetrala ugla $\angle AFB$

3. Odrediti sve proste brojeve p, q, r, s takve da je njihov zbir prost broj, a brojevi $p^2 + qr$ i $p^2 + qs$ su kvadrati prirodnih brojeva.

Rjesenje:

Kako je $p + q + r + s$ prost broj to je jedan od brojeva p, q, r, s paran. Neka je $q = 2$. Tada je

$$p^2 + 2r = a^2 \wedge p^2 + 2s = b^2 \Rightarrow$$

$$2r = (a - p)(a + p) \wedge 2s = (b - p)(b + p)$$

No kako su a, b, p neparni brojevi to su $(a - p)(a + p)$ i $(b - p)(b + p)$ brojevi djeljivi sa 4, sto nije slucaj na drugoj strani jer su r, s prosti neparni brojevi.

Neka je $r = 2$. Tada je

$$p^2 + 2q = a^2 \Rightarrow 2q = (a - p)(a + p)$$

kako su a, p neparni brojevi to je $(a - p)(a + p)$ djeljiv sa 4, sto nije slucaj sa drugom stranom jer je q neparan prost broj.

Analogno dobijamo da $s \neq 2$. Dakle $p = 2$. Sada je

$$qr = a^2 - 4 \wedge qs = b^2 - 4 \Rightarrow$$

$$qr = (a - 2)(a + 2) \wedge qs = (b - 2)(b + 2)$$

Ako je $a - 2 = 1 \Rightarrow a = 3$ tada je $a + 2 = 5$ pa nema rjesenja.

Analogno je i sa $b - 2 = 1$.

Kako je $a \neq b$ imamo dva slucaja

$$q = a - 2, r = a + 2, q = b + 2, s = b - 2$$

Sada imamo

$$a = q + 2, b = q - 2$$

te su brojevi

$$s = q - 4, q, r = q + 4$$

svi prosti. Kako je jedan od njih djeljiv sa 3 to on mora biti jednak 3.

Dobijamo sljedeca rjesenja $q = 7, s = 3, r = 11$

Razmatrajuci drugi slucaj

$$q = a + 2, r = a - 2, q = b - 2, s = b + 2$$

dobijemo rjesenja $q = 7, r = 3, s = 11$.

Dakle rjesenja su

$$(p, q, r, s) \in \{(2, 7, 3, 11), (2, 7, 11, 3)\}$$

4. Neka je S skup od n različitih realnih brojeva, a A_S skup aritmetičkih sredina dva različita broja iz S . Za dati $n \geq 2$ odrediti najmanji mogući broj elemenata u skupu A_S .

Rjesenje:

Neka je

$$x_1 < x_2 < \dots < x_n, x_i \in S, \forall i \in \{1, 2, \dots, n\}$$

Tada je

$$\frac{x_1 + x_2}{2} < \frac{x_1 + x_3}{2} < \dots < \frac{x_1 + x_n}{2} < \frac{x_2 + x_n}{2} < \frac{x_3 + x_n}{2} < \dots < \frac{x_{n-1} + x_n}{2}$$

Ovih brojeva ima $2n - 3$ tako da skup A_S ima najmanje $2n - 3$ različitih elemenata.

S druge strane za $S = \{1, 2, \dots, n\}$ imamo

$$A_S = \left\{ \frac{3}{2}, \frac{4}{2}, \frac{5}{2}, \dots, \frac{2n-1}{2} \right\}$$

dakle skup A_S ima tačno $2n - 3$ različitih elemenata.

Dakle najmanji mogući broj elemenata skupa A_S je $2n - 3$.



57. TAKMIČENJE MLADIH MATEMATIČARA BOSNE I HERCEGOVINE
FEDERALNO TAKMIČENJE UČENIKA SREDNJIH ŠKOLA
Bugojno, 01.04.2017. godine

TREĆI RAZRED

1. U ovisnosti o realnom parametru a diskutirati rješenje nejednadžbe

$$\log_a x + |a + \log_a x| \cdot \log_{\sqrt{x}} a \geq a \log_x a.$$

u skupu realnih brojeva.

2. Neka je trougao $\triangle ABC$ jednakokraki sa $|AB| = |AC|$. Odrediti uglove trougla ako je

$$\frac{|AB|}{|BC|} = 1 + 2\cos\frac{2\pi}{7}.$$

3. Neka je S skup od 6 pozitivnih realnih brojeva takav da

$$(a, b \in S)(a > b) \Rightarrow a + b \in S \text{ ili } a - b \in S.$$

Dokazati da ako ove brojeve poredamo u rastućem poretku, onda je razlika između dva susjedna člana uvijek ista.

4. Neka je dat prirodan broj N . Označimo sve njegove djelioce sa d_1, d_2, \dots, d_n , i neka a_i predstavlja broj djelilaca broja d_i , $i = 1, 2, \dots, n$. Dokazati da tada vrijedi

$$(a_1 + a_2 + \dots + a_n)^2 = a_1^3 + a_2^3 + \dots + a_n^3.$$

(Npr., broj $N = 6$ ima 4 djelioce 1, 2, 3, 6 i vrijedi $a_1 = 1, a_2 = 2, a_3 = 2, a_4 = 4$ i $(1 + 2 + 2 + 4)^2 = 1^3 + 2^3 + 2^3 + 4^3$.)

Trajanje izrade zadataka je 210 minuta.

Svaki zadatak vrijedi 7 bodova.

Sretno!

1. U ovisnosti o realnom parametru a diskutirati rjesenje nejednadzbe

$$\log_a x + |a + \log_a x| \cdot \log_{\sqrt{x}} a \geq a \cdot \log_a x$$

Rjesenje:

U.P. $0 < a \neq 1$

D.P. $0 < x \neq 1$

$$\log_a x + |a + \log_a x| \cdot \log_{\sqrt{x}} a \geq a \cdot \log_a x \Leftrightarrow$$

$$\log_a x + |a + \log_a x| \cdot \frac{2}{\log_a x} \geq \frac{a}{\log_a x}$$

Neka je $\log_a x = t$

$$\log_a x + |a + \log_a x| \cdot \frac{2}{\log_a x} \geq \frac{a}{\log_a x} \Leftrightarrow$$

$$t + |a + t| \cdot \frac{2}{t} \geq \frac{a}{t} \Leftrightarrow \frac{t^2 - 2|a + t| - a}{t} \geq 0$$

i) Neka je $t > 0$

$$\frac{t^2 + 2|a + t| - a}{t} \geq 0 \Leftrightarrow t^2 + 2|a + t| - a \geq 0$$

Kako je $a > 0, t > 0$ to se nejednadzba svodi na

$$t^2 + 2t + a \geq 0$$

Ako je $a > 1$ tada je ona zadovoljena za sve t .

Neka je $0 < a < 1$

$$t^2 + 2t + a \geq 0 \Leftrightarrow$$

$$t \geq -1 + \sqrt{1 - a} \vee t \leq -1 - \sqrt{1 - a}$$

Kako slucaj $t \leq -1 - \sqrt{1 - a}$ ne moze biti zadovoljen zbog $t > 0$ to on nije rjesenje. No kako je $-1 + \sqrt{1 - a} < 0$ to je rjesenje nejednadzbe u ovom slucaju $t > 0$

Dakle rjesenja su

$$a > 1 \Rightarrow t > 0 \quad (1)$$

$$0 < a < 1 \Rightarrow t > 0 \quad (2)$$

ii) Neka je $t < 0$

$$\frac{t^2 + 2|a+t| - a}{t} \geq 0 \Leftrightarrow t^2 + 2|a+t| - a \leq 0$$

Neka je $t \geq -a$. Tada je $-a \leq t < 0$ i imamo

$$t^2 + 2|a+t| - a \leq 0 \Leftrightarrow t^2 + 2t + a \leq 0$$

Ako je $a > 1$ ocito u ovom slucaju nema rjesenja.

Neka je $0 < a < 1$

$$t^2 + 2t + a \leq 0 \Leftrightarrow -1 - \sqrt{1-a} \leq t \leq -1 + \sqrt{1-a}$$

Zbog $0 < a < 1$ imamo da vrijedi

$$-1 - \sqrt{1-a} < -a < -1 + \sqrt{1-a} < 0$$

Dakle imamo sljedece rjesenje

$$0 < a < 1 \Rightarrow -a \leq t \leq -1 + \sqrt{1-a} \quad (3)$$

Neka je $t < -a$ tada je

$$t^2 + 2|a+t| - a \leq 0 \Leftrightarrow t^2 - 2t - 3a \leq 0 \Rightarrow$$

$$1 - \sqrt{1+3a} \leq t \leq 1 + \sqrt{1+3a}$$

Ako je $a > 1$ tada je $-a < 1 - \sqrt{1+3a}$

pa u ovom slucaju nema rjesenja

Ako je $0 < a < 1$ tada je $-a > 1 - \sqrt{1+3a}$ pa je presjek

$$1 - \sqrt{1+3a} \leq t < -a$$

Dakle rjesenje ovog slucaja je

$$0 < a < 1 \Rightarrow 1 - \sqrt{1+3a} \leq t < -a \quad (4)$$

Sumirajuci (1), (2), (3), (4) imamo

$$a > 1 \Rightarrow t > 0$$

$$0 < a < 1 \Rightarrow t > 0 \vee -a \leq t \leq -1 + \sqrt{1-a} \vee 1 - \sqrt{1+3a} \leq t < -a \Leftrightarrow$$

$$0 < a < 1 \Rightarrow t \in [1 - \sqrt{1+3a}, -1 + \sqrt{1-a}] \cup (0, +\infty)$$

Vratimo sada smjenu

$$a > 1 \Rightarrow \log_a x > 0 \Rightarrow x > 1$$

$$0 < a < 1 \Rightarrow \log_a x \in [1 - \sqrt{1 + 3a}, -1 + \sqrt{1 - a}] \cup (0, +\infty) \Rightarrow$$

$$x \in [a^{-1+\sqrt{1-a}}, a^{1-\sqrt{1+3a}}] \cup (0, 1)$$

Dakle rjesenja su

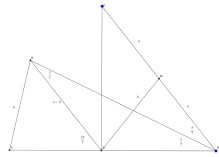
$$0 < x \neq 1, \quad a > 1$$

$$x \in [a^{-1+\sqrt{1-a}}, a^{1-\sqrt{1+3a}}] \cup (0, 1), \quad 0 < a < 1$$

2. Neka je trougao $\triangle ABC$ jednakokrak sa $AB = AC$. Odrediti uglove trougla ako je

$$\frac{AB}{BC} = 1 + 2 \cos \frac{2\pi}{7}$$

Rjesenje:



Neka je $AB = AC = a$ i $BC = b$.

$$\frac{AB}{BC} = 1 + 2 \cos \frac{2\pi}{7} \Leftrightarrow \frac{a}{b} = 1 + 2 \cos \frac{2\pi}{7} \Leftrightarrow \frac{a-b}{2b} = \cos \frac{2\pi}{7}$$

Neka je $\triangle PQA$ trougao sa $\angle PQA = \frac{\pi}{2}$, $PA = 2b$, $AQ = a - b$

Neka je M sredina stranice PA . Tada je $QM = b$

Neka je C tacka na pravoj AQ tako da je $AC = a$, $CQ = b$

Neka se prava kroz Q paralelna sa AP i simetrala ugla $\angle PAQ$ sijeku u tacki B .

Kako je $QB \parallel AP$ to je $\angle BQC = \frac{2\pi}{7}$. No $\angle BQC$ je vanjski

ugao trougla $\triangle BAQ$ pa je $\angle QBA = \angle QAB = \frac{\pi}{7}$. Odavde je

$BQ = QA = a - b$. Kako je $QC = b = MA$ to je $\triangle MAQ \cong \triangle BQC$

Pa imamo da je $BC = QM = b$. Sada imamo da je $\angle QBC = \angle BQC = \frac{2\pi}{7}$

Te je $\angle ABC = \angle ACB = \frac{3\pi}{7}$.

Dakle u trouglu $\triangle ABC$ su uglovi $\angle ABC = \angle ACB = \frac{3\pi}{7}$ i $\angle BCA = \frac{\pi}{7}$

i zadovoljen je uslov

$$\frac{AB}{BC} = 1 + 2 \cos \frac{2\pi}{7}$$

3. Neka je S skup od 6 pozitivnih realnih brojeva takav da

$$(a, b \in S)(a > b) \Rightarrow (a + b \in S \vee a - b \in S)$$

Dokazati da ako ove elemente poredamo u rastućem poretku, onda je razlika između svaka dva susjedna člana ista.

Rješenje:

Kako S nije multiskup on ne sadrži dva jednaka elementa.

Neka je $S = \{a_1, a_2, a_3, a_4, a_5, a_6\}$ i neka je

$$a_1 < a_2 < a_3 < a_4 < a_5 < a_6$$

Kako je

$$\begin{aligned} a_6 + a_1 > a_6 &\Rightarrow a_6 + a_1 \notin S \Rightarrow a_6 - a_1 \in S \\ a_6 + a_2 > a_6 &\Rightarrow a_6 + a_2 \notin S \Rightarrow a_6 - a_2 \in S \\ a_6 + a_3 > a_6 &\Rightarrow a_6 + a_3 \notin S \Rightarrow a_6 - a_3 \in S \\ a_6 + a_4 > a_6 &\Rightarrow a_6 + a_4 \notin S \Rightarrow a_6 - a_4 \in S \\ a_6 + a_5 > a_6 &\Rightarrow a_6 + a_5 \notin S \Rightarrow a_6 - a_5 \in S \end{aligned}$$

Kako je

$$a_6 - a_5 < a_6 - a_4 < a_6 - a_3 < a_6 - a_2 < a_6 - a_1 < a_6$$

to imamo

$$\begin{aligned} a_6 - a_5 &= a_1 \\ a_6 - a_4 &= a_2 \\ a_6 - a_3 &= a_3 \quad (1) \\ a_6 - a_2 &= a_4 \\ a_6 - a_1 &= a_5 \end{aligned}$$

Kako je

$$\begin{aligned} a_5 + a_2 = a_6 + a_2 - a_1 > a_6 &\Rightarrow a_5 + a_2 \notin S \Rightarrow a_5 - a_2 \in S \\ a_5 + a_3 = a_6 + a_3 - a_1 > a_6 &\Rightarrow a_5 + a_3 \notin S \Rightarrow a_5 - a_3 \in S \\ a_5 + a_4 = a_6 + a_4 - a_1 > a_6 &\Rightarrow a_5 + a_4 \notin S \Rightarrow a_5 - a_4 \in S \end{aligned}$$

Kako je

$$a_5 - a_4 < a_5 - a_3 < a_5 - a_2 < a_6 - a_2 < a_6 - a_1 < a_6$$

to imamo

$$\begin{aligned} a_5 - a_2 &= a_3 \\ a_5 - a_3 &= a_2 \quad (2) \\ a_5 - a_4 &= a_1 \end{aligned}$$

Konacno je

$$(1) \Rightarrow \begin{array}{l} a_5 - a_4 = a_2 - a_1 \\ a_4 - a_3 = a_3 - a_2 \\ a_6 = 2a_3 \end{array} \quad (3)$$

$$(2) \Rightarrow a_4 - a_3 = a_2 - a_1 \quad (4)$$

$$(3), (4) \Rightarrow a_5 - a_4 = a_4 - a_3 = a_3 - a_2 = a_2 - a_1$$

Takodjer je zbog (2)

$$a_6 - a_5 = 2a_3 - a_5 = a_3 - (a_5 - a_3) = a_3 - a_2$$

Te je konacno

$$a_6 - a_5 = a_5 - a_4 = a_4 - a_3 = a_3 - a_2 = a_2 - a_1$$

4. Neka je dat prirodan broj N . Oznacimo sve njegove djelioce sa d_1, d_2, \dots, d_n i neka je a_i broj djelilaca broja $d_i, i \in \{1, 2, \dots, n\}$.
Dokazati da vrijedi

$$(a_1 + a_2 + \dots + a_n)^2 = a_1^3 + a_2^3 + \dots + a_n^3$$

(Npr. broj $N = 6$ ima djelioce 1, 2, 3, 6 i vrijedi

$$a_1 = 1, a_2 = 2, a_3 = 2, a_4 = 4 \text{ i } (1 + 2 + 2 + 4)^2 = 1^3 + 2^3 + 2^3 + 4^3)$$

Rjesenje:

Neka je $N = p$ prost broj. Tada su djelioци broja p brojevi 1 i p

te imamo $a_1 = 1, a_2 = 2$ vrijedi $(a_1 + a_2)^2 = a_1^3 + a_2^3$

Neka je $N = p^m$. Tada su djelioци broja N redom $1, p, p^2, \dots, p^m$ no tada je

$$a_1 = 1, a_2 = 2, a_3 = 3, \dots, a_m = m$$

i vrijedi

$$(a_1 + a_2 + \dots + a_m)^2 = a_1^3 + \dots + a_m^3 \Leftrightarrow$$

$$(1 + 2 + \dots + m)^2 = 1^3 + 2^3 + \dots + m^3 \Leftrightarrow$$

$$\left[\frac{m(m+1)}{2}\right]^2 = \left[\frac{m(m+1)}{2}\right]^2$$

sto je tacno.

Neka sada tvrdnja vrijedi za neko N i neka je $A = N \cdot p^m, (p, N) = 1$

Neka su d_1, d_2, \dots, d_n svi djelioци broja N, a_1, \dots, a_n brojevi njihovih djelilaca

Dakle vrijedi

$$(a_1 + a_2 + \dots + a_n)^2 = a_1^3 + \dots + a_n^3$$

Tada su svi djelioци broja A

$$d_1, \dots, d_n, pd_1, \dots, pd_n, \dots, p^m d_1, \dots, p^m d_n$$

Tada su brojevi njihovih djelilaca sljedeci

$$a_1, \dots, a_n, 2a_1, \dots, 2a_n, \dots, (m+1)a_1, \dots, (m+1)a_n$$

Dakle potrebno i dovoljno je dokazati

$$\left[\sum_{k=1}^n a_k + 2 \sum_{k=1}^n a_k + \dots + (m+1) \sum_{k=1}^n a_k\right]^2 = \sum_{k=1}^n a_k^3 + 2^3 \cdot \sum_{k=1}^n a_k^3 + \dots + (m+1)^3 \cdot \sum_{k=1}^n a_k^3 \Leftrightarrow$$

$$\left(\sum_{k=1}^m a_k\right)^2 \cdot \left[\frac{(m+1)(m+2)}{2}\right]^2 = \sum_{k=1}^n a_k^3 \cdot [1^3 + 2^3 + \dots + (m+1)^3] \Leftrightarrow$$

$$\left(\sum_{k=1}^m a_k\right)^2 \cdot \left[\frac{(m+1)(m+2)}{2}\right]^2 = \left(\sum_{k=1}^n a_k^3\right) \cdot \left[\frac{(m+1)(m+2)}{2}\right]^2$$

sto je uz induktivnu pretpostavku tacno.

Kako svaki broj ima kanonsku faktorizaciju $N = \prod_{k=1}^n p_k^{e_k}$ to tvrdnja vrijedi za svaki prirodan broj.



57. TAKMIČENJE MLADIH MATEMATIČARA BOSNE I HERCEGOVINE
FEDERALNO TAKMIČENJE UČENIKA SREDNJIH ŠKOLA
Bugojno, 01.04.2017. godine

ČETVRTI RAZRED

1. U ovisnosti o realnom parametru a diskutirati rješenje nejednadžbe

$$\log_a x + |a + \log_a x| \cdot \log_{\sqrt{x}} a \geq a \log_x a.$$

u skupu realnih brojeva.

2. U trouglu $\triangle ABC$ na stranici \overline{AC} uzete su tačke K, L, M takve da je BK simetrala $\sphericalangle ABL$, BL simetrala $\sphericalangle KBM$ i BM simetrala $\sphericalangle LBC$, redom. Dokazati da je $4|LM| < |AC|$, ako vrijedi $3\sphericalangle BAC - \sphericalangle ACB < 180^\circ$.
3. Neka je dat prirodan broj N . Označimo sve njegove djelioce sa d_1, d_2, \dots, d_n , i neka a_i predstavlja broj djelilaca broja d_i , $i = 1, 2, \dots, n$. Dokazati da tada vrijedi

$$(a_1 + a_2 + \dots + a_n)^2 = a_1^3 + a_2^3 + \dots + a_n^3.$$

(Npr., broj $N = 6$ ima 4 djelioca 1, 2, 3, 6 i vrijedi $a_1 = 1, a_2 = 2, a_3 = 2, a_4 = 4$ i $(1 + 2 + 2 + 4)^2 = 1^3 + 2^3 + 2^3 + 4^3$.)

4. Koliko se najviše skakača može rasporediti na šahovskoj tabli 5×5 , tako da svaki od njih napada tačno dvojicu drugih skakača?

Trajanje izrade zadataka je 210 minuta.

Svaki zadatak vrijedi 7 bodova.

Sretno!

1. U ovisnosti o realnom parametru a diskutirati rjesenje nejednadzbe

$$\log_a x + |a + \log_a x| \cdot \log_{\sqrt{x}} a \geq a \cdot \log_a x$$

Rjesenje:

U.P. $0 < a \neq 1$

D.P. $0 < x \neq 1$

$$\log_a x + |a + \log_a x| \cdot \log_{\sqrt{x}} a \geq a \cdot \log_a x \Leftrightarrow$$

$$\log_a x + |a + \log_a x| \cdot \frac{2}{\log_a x} \geq \frac{a}{\log_a x}$$

Neka je $\log_a x = t$

$$\log_a x + |a + \log_a x| \cdot \frac{2}{\log_a x} \geq \frac{a}{\log_a x} \Leftrightarrow$$

$$t + |a + t| \cdot \frac{2}{t} \geq \frac{a}{t} \Leftrightarrow \frac{t^2 - 2|a + t| - a}{t} \geq 0$$

i) Neka je $t > 0$

$$\frac{t^2 + 2|a + t| - a}{t} \geq 0 \Leftrightarrow t^2 + 2|a + t| - a \geq 0$$

Kako je $a > 0, t > 0$ to se nejednadzba svodi na

$$t^2 + 2t + a \geq 0$$

Ako je $a > 1$ tada je ona zadovoljena za sve t .

Neka je $0 < a < 1$

$$t^2 + 2t + a \geq 0 \Leftrightarrow$$

$$t \geq -1 + \sqrt{1 - a} \vee t \leq -1 - \sqrt{1 - a}$$

Kako slucaj $t \leq -1 - \sqrt{1 - a}$ ne moze biti zadovoljen zbog $t > 0$ to on nije rjesenje. No kako je $-1 + \sqrt{1 - a} < 0$ to je rjesenje nejednadzbe u ovom slucaju $t > 0$

Dakle rjesenja su

$$a > 1 \Rightarrow t > 0 \quad (1)$$

$$0 < a < 1 \Rightarrow t > 0 \quad (2)$$

ii) Neka je $t < 0$

$$\frac{t^2 + 2|a+t| - a}{t} \geq 0 \Leftrightarrow t^2 + 2|a+t| - a \leq 0$$

Neka je $t \geq -a$. Tada je $-a \leq t < 0$ i imamo

$$t^2 + 2|a+t| - a \leq 0 \Leftrightarrow t^2 + 2t + a \leq 0$$

Ako je $a > 1$ ocito u ovom slucaju nema rjesenja.

Neka je $0 < a < 1$

$$t^2 + 2t + a \leq 0 \Leftrightarrow -1 - \sqrt{1-a} \leq t \leq -1 + \sqrt{1-a}$$

Zbog $0 < a < 1$ imamo da vrijedi

$$-1 - \sqrt{1-a} < -a < -1 + \sqrt{1-a} < 0$$

Dakle imamo sljedece rjesenje

$$0 < a < 1 \Rightarrow -a \leq t \leq -1 + \sqrt{1-a} \quad (3)$$

Neka je $t < -a$ tada je

$$t^2 + 2|a+t| - a \leq 0 \Leftrightarrow t^2 - 2t - 3a \leq 0 \Rightarrow$$

$$1 - \sqrt{1+3a} \leq t \leq 1 + \sqrt{1+3a}$$

Ako je $a > 1$ tada je $-a < 1 - \sqrt{1+3a}$

pa u ovom slucaju nema rjesenja

Ako je $0 < a < 1$ tada je $-a > 1 - \sqrt{1+3a}$ pa je presjek

$$1 - \sqrt{1+3a} \leq t < -a$$

Dakle rjesenje ovog slucaja je

$$0 < a < 1 \Rightarrow 1 - \sqrt{1+3a} \leq t < -a \quad (4)$$

Sumirajuci (1), (2), (3), (4) imamo

$$a > 1 \Rightarrow t > 0$$

$$0 < a < 1 \Rightarrow t > 0 \vee -a \leq t \leq -1 + \sqrt{1-a} \vee 1 - \sqrt{1+3a} \leq t < -a \Leftrightarrow$$

$$0 < a < 1 \Rightarrow t \in [1 - \sqrt{1+3a}, -1 + \sqrt{1-a}] \cup (0, +\infty)$$

Vratimo sada smjenu

$$a > 1 \Rightarrow \log_a x > 0 \Rightarrow x > 1$$

$$0 < a < 1 \Rightarrow \log_a x \in [1 - \sqrt{1 + 3a}, -1 + \sqrt{1 - a}] \cup (0, +\infty) \Rightarrow$$

$$x \in [a^{-1+\sqrt{1-a}}, a^{1-\sqrt{1+3a}}] \cup (0, 1)$$

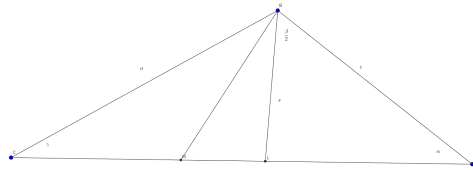
Dakle rjesenja su

$$0 < x \neq 1, \quad a > 1$$

$$x \in [a^{-1+\sqrt{1-a}}, a^{1-\sqrt{1+3a}}] \cup (0, 1), \quad 0 < a < 1$$

2. U trouglu $\triangle ABC$ je L podnozje simetrale ugla $\angle ABC$, na stranici AC , tačka M je podnozje simetrale ugla $\angle LBC$ na stranici LC . Dokazati da je $4LM < AC$ ako je $3\angle BAC - \angle ACB < \pi$

Rjesenje:



Neka je

$$\angle BAC = \alpha, \angle ABC = \beta, \angle BCA = \gamma, AB = c, BC = a, CA = b, BL = s$$

Iz teoreme o simetrali ugla je

$$\frac{AL}{CL} = \frac{c}{a} \Rightarrow \frac{AL + CL}{CL} = \frac{c + a}{a} \Rightarrow CL = \frac{ab}{c + a}$$

Kako je BM simetrala ugla $\angle LBC$ to je

$$LM = \frac{LC \cdot BL}{BL + BC} = \frac{ab}{c + a} \cdot \frac{s}{s + a} = \frac{ab}{c + a} \cdot \left(1 - \frac{a}{s + a}\right)$$

Imamo da je

$$\angle BLA = \pi - \alpha - \frac{\beta}{2} = \frac{\pi - \alpha + \gamma}{2}$$

Kako vrijedi $3\alpha - \gamma < \pi$ to je $\gamma > 3\alpha - \pi$ te je

$$\angle BLA = \frac{\pi - \alpha + \gamma}{2} > \alpha \Rightarrow s < c$$

Sada imamo

$$LM = \frac{ab}{c + a} \cdot \left(1 - \frac{a}{s + a}\right) < \frac{ab}{c + a} \cdot \left(1 - \frac{a}{c + a}\right) = \frac{abc}{(c + a)^2} \leq \frac{abc}{4ac} = \frac{b}{4}$$

4. Neka je dat prirodan broj N . Oznacimo sve njegove djelioce sa d_1, d_2, \dots, d_n i neka je a_i broj djelilaca broja $d_i, i \in \{1, 2, \dots, n\}$.
Dokazati da vrijedi

$$(a_1 + a_2 + \dots + a_n)^2 = a_1^3 + a_2^3 + \dots + a_n^3$$

(Npr. broj $N = 6$ ima djelioce 1, 2, 3, 6 i vrijedi

$$a_1 = 1, a_2 = 2, a_3 = 2, a_4 = 4 \text{ i } (1 + 2 + 2 + 4)^2 = 1^3 + 2^3 + 2^3 + 4^3)$$

Rjesenje:

Neka je $N = p$ prost broj. Tada su djelioци broja p brojevi 1 i p

te imamo $a_1 = 1, a_2 = 2$ vrijedi $(a_1 + a_2)^2 = a_1^3 + a_2^3$

Neka je $N = p^m$. Tada su djelioци broja N redom $1, p, p^2, \dots, p^m$ no tada je

$$a_1 = 1, a_2 = 2, a_3 = 3, \dots, a_m = m$$

i vrijedi

$$(a_1 + a_2 + \dots + a_m)^2 = a_1^3 + \dots + a_m^3 \Leftrightarrow$$

$$(1 + 2 + \dots + m)^2 = 1^3 + 2^3 + \dots + m^3 \Leftrightarrow$$

$$\left[\frac{m(m+1)}{2}\right]^2 = \left[\frac{m(m+1)}{2}\right]^2$$

sto je tacno.

Neka sada tvrdnja vrijedi za neko N i neka je $A = N \cdot p^m, (p, N) = 1$

Neka su d_1, d_2, \dots, d_n svi djelioци broja N, a_1, \dots, a_n brojevi njihovih djelilaca

Dakle vrijedi

$$(a_1 + a_2 + \dots + a_n)^2 = a_1^3 + \dots + a_n^3$$

Tada su svi djelioци broja A

$$d_1, \dots, d_n, pd_1, \dots, pd_n, \dots, p^m d_1, \dots, p^m d_n$$

Tada su brojevi njihovih djelilaca sljedeci

$$a_1, \dots, a_n, 2a_1, \dots, 2a_n, \dots, (m+1)a_1, \dots, (m+1)a_n$$

Dakle potrebno i dovoljno je dokazati

$$\left[\sum_{k=1}^n a_k + 2 \sum_{k=1}^n a_k + \dots + (m+1) \sum_{k=1}^n a_k\right]^2 = \sum_{k=1}^n a_k^3 + 2^3 \cdot \sum_{k=1}^n a_k^3 + \dots + (m+1)^3 \cdot \sum_{k=1}^n a_k^3 \Leftrightarrow$$

$$\left(\sum_{k=1}^m a_k\right)^2 \cdot \left[\frac{(m+1)(m+2)}{2}\right]^2 = \sum_{k=1}^n a_k^3 \cdot [1^3 + 2^3 + \dots + (m+1)^3] \Leftrightarrow$$

$$\left(\sum_{k=1}^m a_k\right)^2 \cdot \left[\frac{(m+1)(m+2)}{2}\right]^2 = \left(\sum_{k=1}^n a_k^3\right) \cdot \left[\frac{(m+1)(m+2)}{2}\right]^2$$

sto je uz induktivnu pretpostavku tacno.

Kako svaki broj ima kanonsku faktorizaciju $N = \prod_{k=1}^n p_k^{e_k}$ to tvrdnja vrijedi za svaki prirodan broj.

4. Koliko se najviše skakaca može rasporediti na šahovskoj tabli 5×5 tako da svaki od njih napada tačno dva od ostalih skakaca.

Rjesenje:

Bez ograničenja opstoji možemo uzeti da su polja u uglu table crna. Kako svaki skakac napada tačno dva druga to je broj zauzetih crnih polja jednak broju zauzetih bijelih polja. Dakle ako je broj praznih bijelih polja jednak n tada je broj praznih crnih polja jednak $n + 1$. Neka skakac stoji na centralnom polju koje je crno. Tada je broj praznih bijelih polja bar 6 te je broj praznih crnih polja jednak 7. Dakle najveći broj skakaca na tabli je

$$25 - 6 - 7 = 12$$

Pretpostavimo sada da na centralnom polju nema skakaca. Podijelimo bijela polja na dijelove kao na slici

	3		3	
1		4		2
	2		1	
1		3		2
	4		4	

Pretpostavimo da je dio ispunjen brojem 1 pokriven skakacima a, b, c . Tada sa donje slike imamo

		d		
a	f			
			c	
b	e			
		g		

Kako skakac sa polja a mora napadati bar dva skakaca, a centralno polje je prazno to na e i d mora biti skakac. Analogno posmatrajuci skakaca na b moraju biti skakaci na poljima f i g . No kako na c stoji skakac to on napada cetiri druga skakaca, sto je kontradikcija.

Dakle svaki od dijelova sa istim brojem mora imati bar jedno polje na kome ne stoji skakac. Pa je broj praznih bijelih polja najmanje 4 dakle broj crnih polja je najmanje 5, pa se na tabli nalazi najviše $25 - 4 - 9 = 16$ skakaca.

Kako znamo da svaki od dijelova na slici mora imati bar po jedno prazno polje lahko konstruiramo sljedeci raspored

	S	S	S	
S	S		S	S
S				S
S	S		S	S
	S	S	S	